

01

기하와 벡터

- 1 좌표평면에서 넓이가 9인 삼각형 ABC의 세 변 AB, BC, CA 위를 움직이는 점을 각각 P, Q, R라 할 때,

$$\overrightarrow{AX} = \frac{1}{4}(\overrightarrow{AP} + \overrightarrow{AR}) + \frac{1}{2}\overrightarrow{AQ}$$

를 만족시키는 점 X가 나타내는 영역의 넓이가 $\frac{q}{p}$ 이다.

$p+q$ 의 값을 구하시오. (단, p 와 q 는 서로소인 자연수이다.) [4점]

2018년 09월 평가원 가형 29번

2 좌표공간에서 점 $A\left(3, \frac{1}{2}, 2\right)$ 와 평면 $z = 1$ 위의 세 점 P_1, P_2, P_3 이

$$\overrightarrow{OA} \cdot \overrightarrow{OP_1} = \frac{11}{3}, \quad \overrightarrow{OA} \cdot \overrightarrow{OP_2} = 1, \quad \overrightarrow{OA} \cdot \overrightarrow{OP_3} = -\frac{7}{4}$$

을 만족시킨다. 점 $(0, k, 0)$ 을 지나고 방향벡터가 $(1, -6, 0)$ 인 직선을 l 이라 하고, 직선 l 에 의해 나누어지는 xy 평면의 두 영역을 각각 α, β 라 하자. 세 점 P_1, P_2, P_3 에서 xy 평면에 내린 수선의 발이 모두 α 에만 포함되거나 모두 β 에만 포함되도록 하는 양의 정수 k 의 최솟값을 m , 음의 정수 k 의 최댓값을 M 이라 할 때, $m - M$ 의 값을 구하시오. (단, O 는 원점이다.) [4점]

- 3 좌표평면 위에 $\overline{AB} = 5$ 인 두 점 A, B를 각각 중심으로 하고 반지름의 길이가 5인 두 원을 각각 O_1, O_2 라 하자. 원 O_1 위의 점 C와 원 O_2 위의 점 D가 다음 조건을 만족시킨다.

$$(가) \cos(\angle CAB) = \frac{3}{5}$$

$$(나) \overrightarrow{AB} \cdot \overrightarrow{CD} = 30 \text{ 이고 } |\overrightarrow{CD}| < 9 \text{ 이다.}$$

선분 CD를 지름으로 하는 원 위의 점 P에 대하여 $\overrightarrow{PA} \cdot \overrightarrow{PB}$ 의 최댓값이 $a + b\sqrt{74}$ 이다. $a + b$ 의 값을 구하시오. (단, a, b 는 유리수이다.) [4점]

- 5 좌표공간에 구 $x^2 + y^2 + z^2 = 6$ 이 평면 $x + 2z - 5 = 0$ 과 만나서 생기는 원 C 가 있다. 원 C 위의 점 중 y 좌표가 최소인 점을 P 라 하고, 점 P 에서 xy 평면에 내린 수선의 발을 Q 라 하자. 원 C 위를 움직이는 점 X 에 대하여 $|\overrightarrow{PX} + \overrightarrow{QX}|^2$ 의 최댓값을 $a + b\sqrt{30}$ 이다. $10(a + b)$ 의 값을 구하시오. (단, a 와 b 는 유리수이다.) [4점]

2017년 09월 평가원 가형 29번

6 좌표공간에 세 점 $O(0, 0, 0)$, $A(1, 0, 0)$, $B(0, 0, 2)$ 가 있다. 점 P 가 $\overrightarrow{OB} \cdot \overrightarrow{OP} = 0$, $|\overrightarrow{OP}| \leq 4$ 를 만족시키며 움직일 때,

$$|\overrightarrow{PQ}| = 1, \overrightarrow{PQ} \cdot \overrightarrow{OA} \geq \frac{\sqrt{3}}{2}$$

을 만족시키는 점 Q 에 대하여 $|\overrightarrow{BQ}|$ 의 최댓값과 최솟값을 각각 M , m 이라 하자.

$M + m = a + b\sqrt{5}$ 일 때, $6(a + b)$ 의 값을 구하시오. (단, a , b 는 유리수이다.) [4점]

7

좌표평면에서 중심이 O 이고 반지름의 길이가 1 인 원 위의 한 점을 A , 중심이 O 이고 반지름의 길이가 3 인 원 위의 한 점을 B 라 할 때, 점 P 가 다음 조건을 만족시킨다.

$$(가) \overrightarrow{OB} \cdot \overrightarrow{OP} = 3\overrightarrow{OA} \cdot \overrightarrow{OP}$$

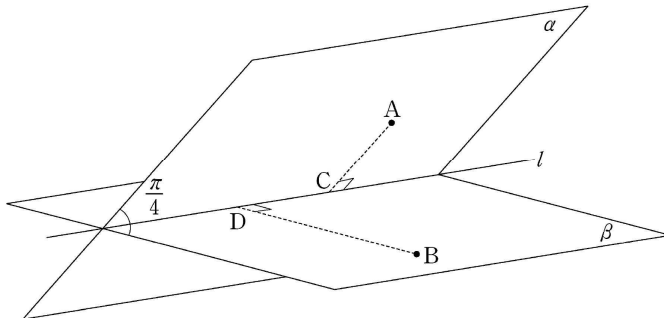
$$(나) |\overrightarrow{PA}|^2 + |\overrightarrow{PB}|^2 = 20$$

$\overrightarrow{PA} \cdot \overrightarrow{PB}$ 의 최솟값은 m 이고 이때 $|\overrightarrow{OP}| = k$ 이다. $m + k^2$ 의 값을 구하시오. [4 점]

2016년 11월 수학능력시험 가형 29번

- 8 한 모서리의 길이가 4인 정사면체 ABCD에서 삼각형 ABC의 무게중심을 O, 선분 AD의 중점을 P라 하자. 정사면체 ABCD의 한 면 BCD 위의 점 Q에 대하여 두 벡터 \overrightarrow{OQ} 와 \overrightarrow{OP} 가 서로 수직일 때, $|\overrightarrow{PQ}|$ 의 최댓값은 $\frac{q}{p}$ 이다. $p+q$ 의 값을 구하시오. (단, p, q 는 서로소인 자연수이다.) [4 점]

- 9 그림과 같이 직선 l 을 교선으로 하고 이루는 각의 크기가 $\frac{\pi}{4}$ 인 두 평면 α 와 β 가 있고, 평면 α 위의 점 A 와 평면 β 위의 점 B 가 있다. 두 점 A, B 에서 직선 l 에 내린 수선의 발을 각각 C, D 라 하자. $\overline{AB}=2$, $\overline{AD}=\sqrt{3}$ 이고 직선 AB 와 평면 β 가 이루는 각의 크기가 $\frac{\pi}{6}$ 일 때, 사면체 $ABCD$ 의 부피는 $a+b\sqrt{2}$ 이다. $36(a+b)$ 의 값을 구하시오. (단, a, b 는 유리수이다.) [4점]



2016년 6월 평가원 가형 29번

- 10 양의 실수 전체의 집합에서 이계도함수를 갖는 함수 $f(t)$ 에 대하여 좌표평면 위를 움직이는 점 P 의 시각 t ($t \geq 1$) 에서의 위치 (x, y) 가

$$\begin{cases} x = 2\ln t \\ y = f(t) \end{cases}$$

이다. 점 P 가 점 $(0, f(1))$ 로부터 움직인 거리가 s 가 될 때 시각 t 는

$t = \frac{s + \sqrt{s^2 + 4}}{2}$ 이고, $t = 2$ 일 때 점 P 의 속도는 $(1, \frac{3}{4})$ 이다. 시각 $t = 2$ 일 때, 점

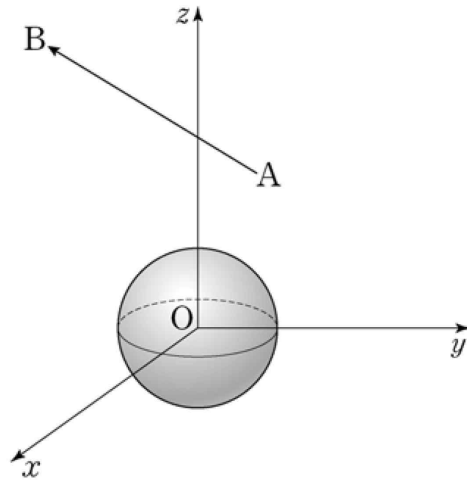
P 의 가속도를 $(-\frac{1}{2}, a)$ 라 할 때, $60a$ 의 값을 구하시오. [4점]

11 좌표공간의 두 점 $A(2, \sqrt{2}, \sqrt{3})$, $B(1, -\sqrt{2}, 2\sqrt{3})$ 에 대하여 점 P 는 다음 조건을 만족시킨다.

(가) $|\overrightarrow{AP}| = 1$

(나) \overrightarrow{AP} 와 \overrightarrow{AB} 가 이루는 각의 크기는 $\frac{\pi}{6}$ 이다.

중심이 원점이고 반지름의 길이가 1인 구 위의 점 Q 에 대하여 $\overrightarrow{AP} \cdot \overrightarrow{AQ}$ 의 최댓값이 $a + b\sqrt{33}$ 이다. $16(a^2 + b^2)$ 의 값을 구하시오. (단, a, b 는 유리수이다.) [4점]



2015년 9월 평가원 가형 29번

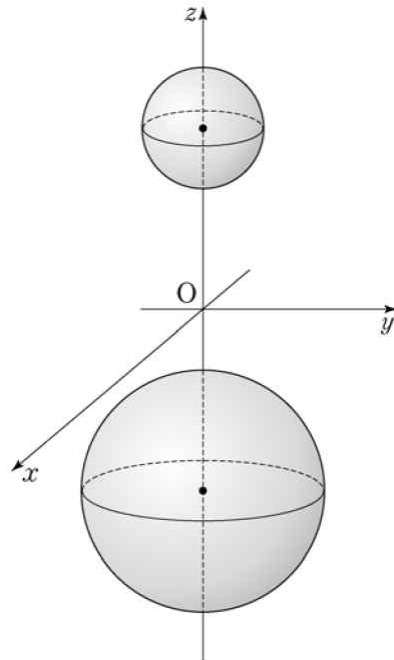
12 좌표공간에 두 개의 구

$$S_1 : x^2 + y^2 + (z - 3)^2 = 1,$$

$$S_2 : x^2 + y^2 + (z + 3)^2 = 4$$

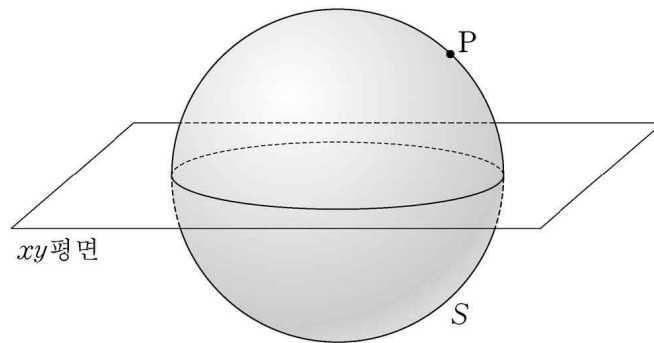
가 있다. 점 $P\left(\frac{1}{2}, \frac{\sqrt{3}}{6}, 0\right)$ 을 포함하고 S_1 과 S_2 에 동시에 접하는 평면을 α 라 하자. 점

$Q(k, -\sqrt{3}, 2)$ 가 평면 α 위의 점일 때 $120k$ 의 값을 구하시오. [4점]



13 좌표공간에 구 $S: x^2 + y^2 + z^2 = 50$ 과 점 $P(0, 5, 5)$ 가 있다. 다음 조건을 만족시키는 모든 원 C 에 대하여 C 의 xy 평면 위로의 정사영의 넓이의 최댓값을 $\frac{q}{p}\pi$ 라 하자. $p+q$ 의 값을 구하시오. (단, p 와 q 는 서로소인 자연수이다.) [4점]

- (가) 원 C 는 점 P 를 지나는 평면과 구 S 가 만나서 생긴다.
- (나) 원 C 의 반지름의 길이는 1이다.

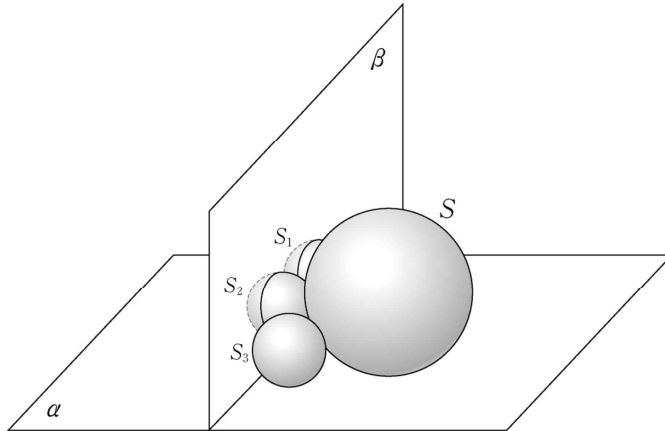


2014년 09월 평가원 가형 29번

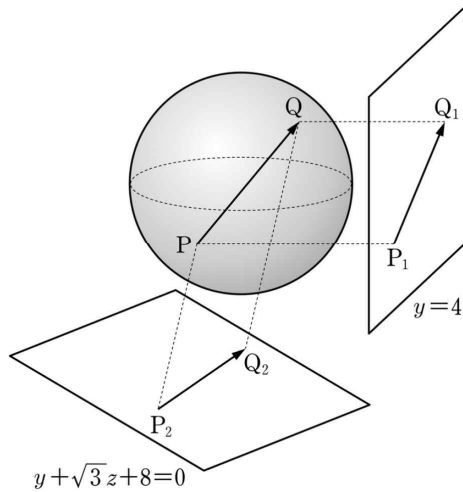
- 14 그림과 같이 평면 α 위에 놓여 있는 서로 다른 네 구 S, S_1, S_2, S_3 이 다음 조건을 만족시킨다.

- (가) S 의 반지름의 길이는 3이고, S_1, S_2, S_3 의 반지름의 길이는 1이다.
 (나) S_1, S_2, S_3 은 모두 S 에 접한다.
 (다) S_1 은 S_2 와 접하고, S_2 는 S_3 과 접한다.

S_1, S_2, S_3 의 중심을 각각 O_1, O_2, O_3 이라 하자. 두 점 O_1, O_2 를 지나고 평면 α 에 수직인 평면을 β , 두 점 O_2, O_3 을 지나고 평면 α 에 수직인 평면이 S_3 과 만나서 생기는 단면을 D 라 하자. 단면 D 의 평면 β 위로의 정사영의 넓이를 $\frac{q}{p}\pi$ 라 할 때, $p+q$ 의 값을 구하시오. (단, p 와 q 는 서로소인 자연수이다.) [4점]



- 15 좌표공간에서 구 $x^2 + y^2 + z^2 = 4$ 위를 움직이는 두 점 P, Q 가 있다. 두 점 P, Q 에서 평면 $y = 4$ 에 내린 수선의 발을 각각 P_1, Q_1 이라 하고, 평면 $y + \sqrt{3}z + 8 = 0$ 에 내린 수선의 발을 각각 P_2, Q_2 라 하자. $2|\overrightarrow{PQ}|^2 - |\overrightarrow{P_1Q_1}|^2 - |\overrightarrow{P_2Q_2}|^2$ 의 최댓값을 구하시오. [4점]



2013년 06월 평가원 가형 29번

16 포물선 $y^2 = 16x$ 위의 점 A에 대하여 점 B는 다음 조건을 만족시킨다.

- (가) 점 A가 원점이면 점 B도 원점이다.
 (나) 점 A가 원점이 아니면 점 B는 점 A, 원점 그리고 점 A에서의 접선이 y 축과 만나는 점을 세 꼭짓점으로 하는 삼각형의 무게중심이다.

점 A가 포물선 $y^2 = 16x$ 위를 움직일 때 점 B가 나타내는 곡선을 C 라 하자. 점 $(3, 0)$ 을 지나는 직선이 곡선 C 와 두 점 P, Q에서 만나고 $\overline{PQ} = 20$ 일 때, 두 점 P, Q의 x 좌표의 값의 합을 구하시오. [4점]

17 좌표공간에서 정사면체 ABCD의 한 면 ABC는 평면 $2x - y + z = 4$ 위에 있고, 꼭지점 D는 평면 $x + y + z = 3$ 위에 있다. 삼각형 ABC의 무게중심의 좌표가 $(1, 1, 3)$ 일 때, 정사면체 ABCD의 한 모서리의 길이는? [4점]

- ① $2\sqrt{2}$ ② 3 ③ $2\sqrt{3}$
- ④ 4 ⑤ $3\sqrt{2}$

2012년 09월 평가원 가형 29번

18 좌표공간에서 네 점 A_0, A_1, A_2, A_3 이 다음 조건을 만족시킨다.

$$(가) \quad |\overrightarrow{A_0A_2}| = |\overrightarrow{A_1A_3}| = 2$$

$$(나) \quad \frac{1}{2} \overrightarrow{A_0A_3} \cdot \left(\overrightarrow{A_0A_k} - \frac{1}{2} \overrightarrow{A_0A_3} \right) = \cos \frac{3-k}{3} \pi \quad (k = 1, 2, 3)$$

$|\overrightarrow{A_1A_2}|$ 의 최댓값을 M 이라 할 때, M^2 의 값을 구하시오. [4점]

19 좌표공간에서 삼각형 ABC가 다음 조건을 만족시킨다.

- (가) 삼각형 ABC의 넓이는 6이다.
- (나) 삼각형 ABC의 yz 평면 위로의 정사영의 넓이는 3이다.

삼각형 ABC의 평면 $x - 2y + 2z = 1$ 위로의 정사영의 넓이의 최댓값은? [4점]

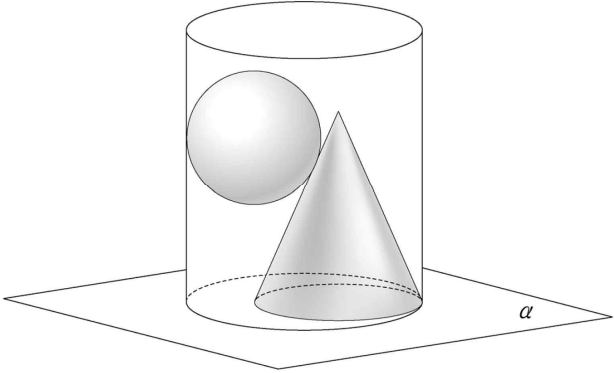
- ① $2\sqrt{6} + 1$ ② $2\sqrt{2} + 3$ ③ $3\sqrt{5} - 1$
- ④ $2\sqrt{5} + 1$ ⑤ $3\sqrt{6} - 2$

2011년 11월 수학능력시험 가형 29번

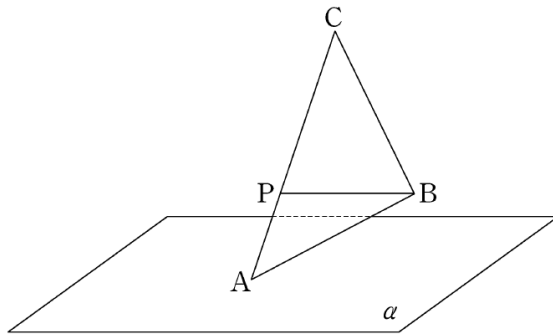
20 그림과 같이 밑면의 반지름의 길이가 7 인 원기둥과 밑면의 반지름의 길이가 5 이고 높이가 12 인 원뿔이 평면 α 위에 놓여 있고, 원뿔의 밑면의 둘레가 원기둥의 밑면의 둘레에 내접한다. 평면 α 와 만나는 원기둥의 밑면의 중심을 O, 원뿔의 꼭짓점을 A 라 하자. 중심이 B이고 반지름의 길이가 4 인 구 S 가 다음 조건을 만족시킨다.

- (가) 구 S는 원기둥과 원뿔에 모두 접한다.
- (나) 두 점 A, B의 평면 α 위로의 정사영이 각각 A' , B' 일 때,
 $\angle A'OB' = 180^\circ$ 이다.

직선 AB와 평면 α 가 이루는 예각의 크기를 θ 라 할 때, $\tan \theta = p$ 이다. $100p$ 의 값을 구하시오. (단, 원뿔의 밑면의 중심과 점 A' 은 일치한다.) [4점]

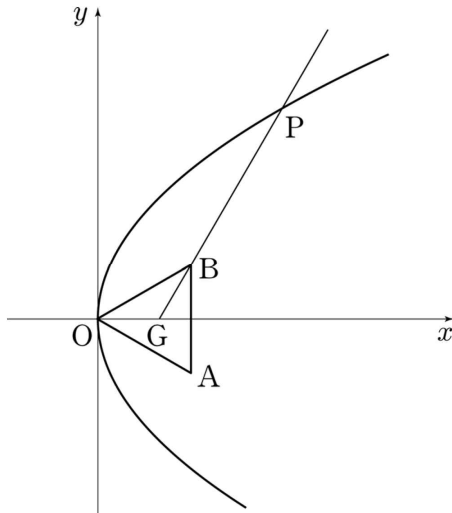


- 21 그림과 같이 평면 α 위에 점 A가 있고, α 로부터의 거리가 각각 1, 3인 두 점 B, C가 있다. 선분 AC를 1:2로 내분하는 점 P에 대하여 $\overline{BP} = 4$ 이다. 삼각형 ABC의 넓이가 9일 때, 삼각형 ABC의 평면 α 위로의 정사영의 넓이를 S 라 하자. S^2 의 값을 구하시오. [4점]

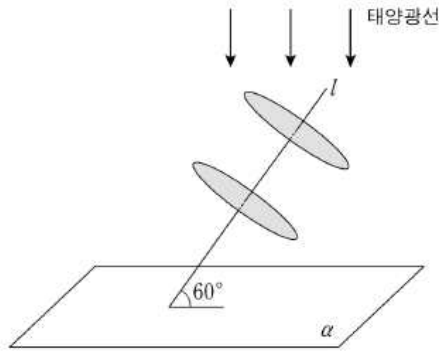


2011년 6월 평가원 가형 29번

- 22 그림과 같이 한 변의 길이가 $2\sqrt{3}$ 인 정삼각형 OAB 의 무게중심 G 가 x 축 위에 있다. 꼭짓점이 O 이고 초점이 G 인 포물선과 직선 GB 가 제 1사분면에서 만나는 점을 P 라 할 때, 선분 GP 의 길이를 구하시오. (단, O 는 원점이다.) [4점]



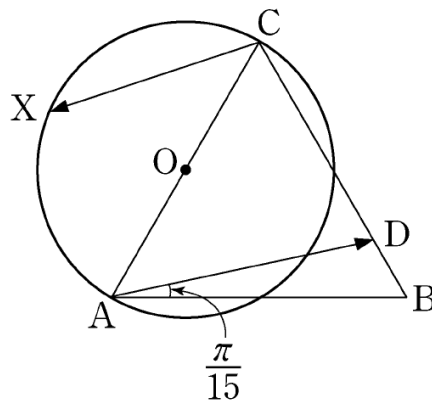
23 그림과 같이 중심 사이의 거리가 $\sqrt{3}$ 이고 반지름의 길이가 1인 두 원판과 평면 α 가 있다. 각 원판의 중심을 지나는 직선 l 은 두 원판의 면과 각각 수직이고, 평면 α 와 이루는 각의 크기가 60° 이다. 태양광선이 그림과 같이 평면 α 에 수직인 방향으로 비출 때, 두 원판에 의해 평면 α 에 생기는 그림자의 넓이는? (단, 원판의 두께는 무시한다.) [4점]



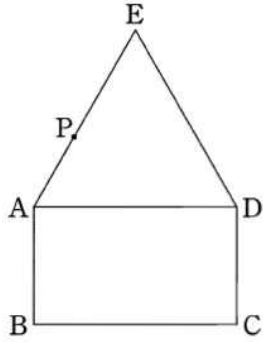
- ① $\frac{\sqrt{3}}{3}\pi + \frac{3}{8}$ ② $\frac{2}{3}\pi + \frac{\sqrt{3}}{4}$ ③ $\frac{2\sqrt{3}}{3}\pi + \frac{1}{8}$
 ④ $\frac{4}{3}\pi + \frac{\sqrt{3}}{16}$ ⑤ $\frac{2\sqrt{3}}{3}\pi + \frac{3}{4}$

2010년 11월 수학능력시험 가형 22번

- 24 그림과 같이 평면 위에 정삼각형 ABC와 선분 AC를 지름으로 하는 원 O가 있다. 선분 BC 위의 점 D를 $\angle DAB = \frac{\pi}{15}$ 가 되도록 정한다. 점 X가 원 O위를 움직일 때, 두 벡터 \overrightarrow{AD} , \overrightarrow{CX} 의 내적 $\overrightarrow{AD} \cdot \overrightarrow{CX}$ 의 값이 최소가 되도록 하는 점 X를 점 P라 하자.
- $\angle ACP = \frac{q}{p}\pi$ 일 때, $p+q$ 의 값을 구하시오. (단, p 와 q 는 서로소인 자연수이다.) [4점]



25 평면에서 그림과 같이 $\overline{AB} = 1$ 이고 $\overline{BC} = \sqrt{3}$ 인 직사각형 ABCD와 정삼각형 EAD 가 있다. 점 P가 선분 AE 위를 움직일 때, 옳은 것만을 <보기>에서 있는 대로 고른 것은? [4점]



보기

- ㄱ. $|\overrightarrow{CB} - \overrightarrow{CP}|$ 의 최솟값은 1이다.
- ㄴ. $\overrightarrow{CA} \cdot \overrightarrow{CP}$ 의 값은 일정하다.
- ㄷ. $|\overrightarrow{DA} + \overrightarrow{CP}|$ 의 최솟값은 $\frac{7}{2}$ 이다.

- ① ㄱ
- ② ㄷ
- ③ ㄱ, ㄴ
- ④ ㄴ, ㄷ
- ⑤ ㄱ, ㄴ, ㄷ

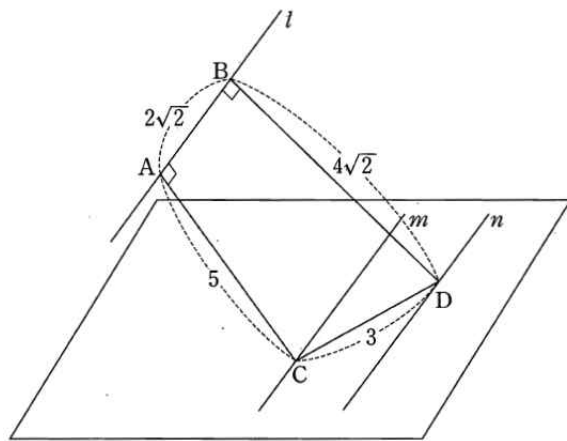
2010년 9월 평가원 가형 25번

- 26 같은 평면 위에 있지 않고 서로 평행한 세 직선 l, m, n 이 있다. 직선 l 위의 두 점 A, B , 직선 m 위의 점 C , 직선 n 위의 점 D 가 다음 조건을 만족시킨다.

(가) $\overline{AB} = 2\sqrt{2}, \overline{CD} = 3$

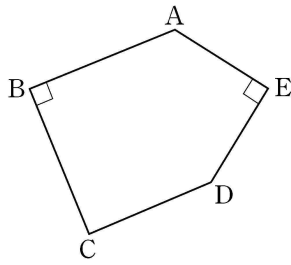
(나) $\overline{AC} \perp l, \overline{AC} = 5$

(다) $\overline{BD} \perp l, \overline{BD} = 4\sqrt{2}$



두 직선 m, n 을 포함하는 평면과 세 점 A, C, D 를 포함하는 평면이 이루는 각의 크기를 θ 라 할 때, $15\tan^2\theta$ 의 값을 구하시오. (단, $0 < \theta < \frac{\pi}{2}$) [4점]

27 평면에서 그림의 오각형 ABCDE가 $\overline{AB} = \overline{BC}$, $\overline{AE} = \overline{ED}$, $\angle B = \angle E = 90^\circ$ 를 만족시킬 때, 옳은 것만을 [보기]에서 있는 대로 고른 것은?[4점]



보기

ㄱ. 선분 BE의 중점 M에 대하여 $\overrightarrow{AB} + \overrightarrow{AE}$ 와 \overrightarrow{AM} 은 서로 평행하다.

ㄴ. $\overrightarrow{AB} \cdot \overrightarrow{AE} = -\overrightarrow{BC} \cdot \overrightarrow{ED}$

ㄷ. $|\overrightarrow{BC} + \overrightarrow{ED}| = |\overrightarrow{BE}|$

① ㄱ

② ㄷ

③ ㄱ, ㄴ

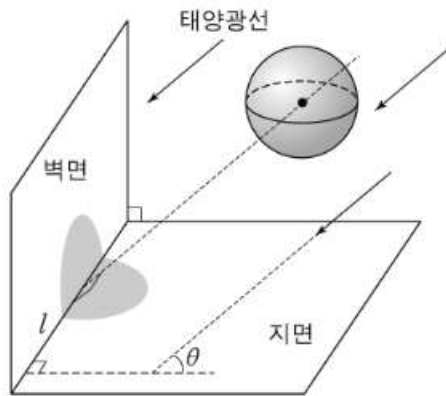
④ ㄴ, ㄷ

⑤ ㄱ, ㄴ, ㄷ

2009년 11월 수학능력시험 가형 25번

- 28 좌표공간에서 x 축을 포함하고 xy 평면과 이루는 각의 크기가 θ ($0 < \theta < \frac{\pi}{2}$) 인 평면을 α 라 하자. 평면 α 가 구 $x^2 + y^2 + z^2 = 1$ 과 만나서 생기는 도형의 xy 평면 위로의 정사영이 영역 $\{(x, y, 0) \mid x + 3y - 2 \leq 0\}$ 에 포함되도록 하는 θ 에 대하여 $\cos \theta$ 의 최댓값을 M 이라 하자. $60M^2$ 의 값을 구하시오. [4점]

29 그림과 같이 반지름의 길이가 r 인 구 모양의 공이 공중에 있다. 벽면과 지면은 서로 수직이고, 태양광선이 지면과 크기가 θ 인 각을 이루면서 공을 비추고 있다. 태양광선과 평행하고 공의 중심을 지나는 직선이 벽면과 지면의 교선 l 과 수직으로 만난다. 벽면에 생긴 공의 그림자 위의 점에서 교선 l 까지 거리의 최댓값을 a 라하고, 지면에 생기는 공의 그림자 위의 점에서 교선 l 까지 거리의 최댓값을 b 라 하자. 옳은 것만을 <보기>에서 있는 대로 고른 것은? [4점]



보기

ㄱ. 그림자와 교선 l 의 공통부분의 길이는 $2r$ 이다.

ㄴ. $\theta = 60^\circ$ 이면 $a < b$ 이다.

ㄷ. $\frac{1}{a^2} + \frac{1}{b^2} = \frac{1}{r^2}$

- ① ㄱ
- ② ㄴ
- ③ ㄱ, ㄷ
- ④ ㄴ, ㄷ
- ⑤ ㄱ, ㄴ, ㄷ

2009년 9월 평가원 가형 23번

30 좌표공간에서 구 $x^2 + y^2 + z^2 = 50$ 이 두 평면

$$\alpha : x + y + 2z = 15$$

$$\beta : x - y - 4\sqrt{3}z = 25$$

와 만나서 생기는 원을 각각 C_1, C_2 라 하자.

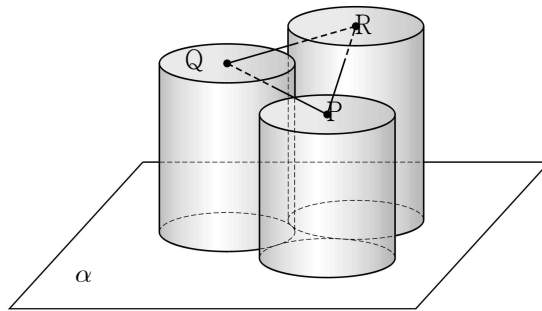
원 C_1 위의 점 P 와 원 C_2 위의 점 Q 에 대하여 \overline{PQ}^2 의 최솟값을 구하시오. [4점]

31 좌표공간의 점 $A(3, 3, 3)$ 과 중심이 원점 O 인 구

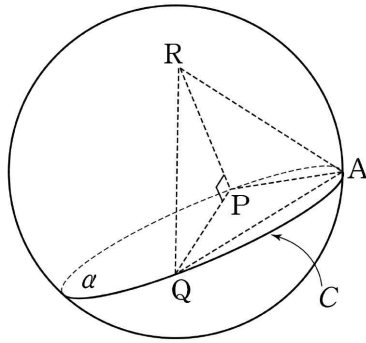
$x^2 + y^2 + z^2 = 9$ 위를 움직이는 점 P 에 대하여 $\left| \frac{2}{3}\overrightarrow{OA} + \frac{1}{3}\overrightarrow{OP} \right|$ 의 최댓값은 $a + b\sqrt{3}$ 이다. $10(a + b)$ 의 값을 구하시오. (단, a, b 는 유리수이다.) [4점]

2008년 11월 수학능력시험 가형 24번

- 32 그림과 같이 반지름의 길이가 모두 $\sqrt{3}$ 이고 높이가 서로 다른 세 원기둥이 서로 외접하며 한 평면 α 위에 놓여 있다. 평면 α 와 만나지 않는 세 원기둥의 밑면의 중심을 각각 P, Q, R 라 할 때, 삼각형 QPR는 이등변삼각형이고, 평면 QPR와 평면 α 가 이루는 각의 크기는 60° 이다. 세 원기둥의 높이를 각각 8, a , b 라 할 때, $a+b$ 의 값을 구하시오. (단, $8 < a < b$) [4점]

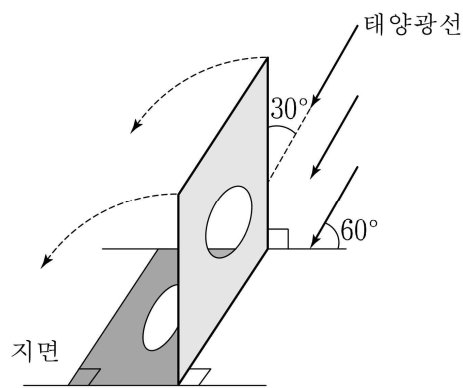


- 33 좌표공간에서 구 $S : x^2 + y^2 + z^2 = 4$ 와 평면 $\alpha : y - \sqrt{3}z = 2$ 가 만나서 생기는 원을 C 라 하자. 원 C 위의 점 $A(0, 2, 0)$ 에 대하여 원 C 의 지름의 양 끝점 P, Q 를 $\overline{AP} = \overline{AQ}$ 가 되도록 잡고, 점 P 를 지나고 평면 α 에 수직인 직선이 구 S 와 만나는 또 다른 점을 R 라 하자. 삼각형 ARQ 의 넓이를 s 라 할 때, s^2 의 값을 구하시오. [4점]



2008년 9월 평가원 가형 25번

- 34 그림과 같이 태양광선이 지면과 60° 의 각을 이루면서 비추고 있다. 한 변의 길이가 4인 정사각형의 중앙에 반지름의 길이가 1인 원 모양의 구멍이 뚫려 있는 판이 있다. 이 판은 지면과 수직으로 서 있고 태양광선과 30° 의 각을 이루고 있다. 판의 밑변을 지면에 고정하고 판을 그림자 쪽으로 기울일 때 생기는 그림자의 최대 넓이를 S 라 하자. S 의 값을 $\frac{\sqrt{3}(a+b\pi)}{3}$ 라 할 때, $a+b$ 의 값을 구하시오. (단, a, b 는 정수이고 판의 두께는 무시한다.) [4점]



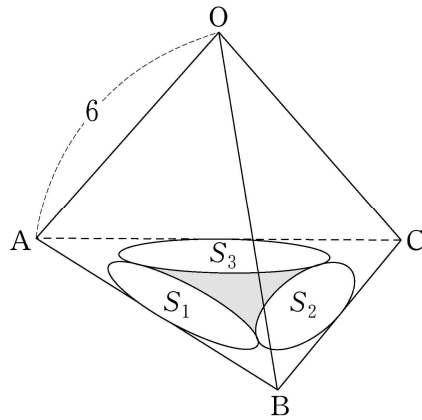
35 좌표공간에서 중심이 C인 구 $(x-1)^2 + (y-1)^2 + (z-1)^2 = 9$ 와 평면 $x+y+z=6$ 이 만나서 생기는 도형을 S 라 하자. 도형 S 위의 두 점 P, Q에 대하여 두 벡터 \overrightarrow{CP} , \overrightarrow{CQ} 의 내적 $\overrightarrow{CP} \cdot \overrightarrow{CQ}$ 의 최솟값은? [4점]

- ① -3 ② -2 ③ -1
- ④ 1 ⑤ 2

2007년 11월 수학능력시험 가형 23번

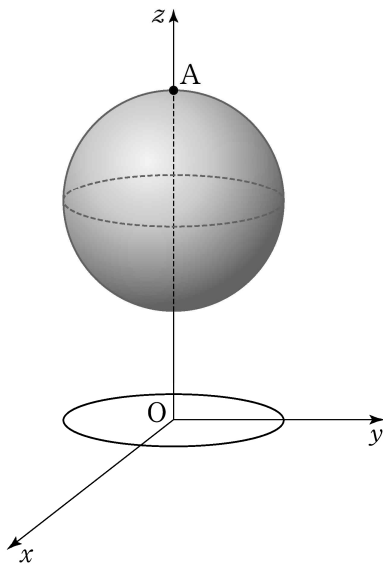
- 36 좌표공간에 네 점 $A(2, 0, 0)$, $B(0, 1, 0)$, $C(-3, 0, 0)$, $D(0, 0, 2)$ 를 꼭짓점으로 하는 사면체 $ABCD$ 가 있다. 모서리 BD 위를 움직이는 점 P 에 대하여 $\overline{PA}^2 + \overline{PC}^2$ 의 값을 최소로 하는 점 P 의 좌표를 (a, b, c) 라고 할 때, $a + b + c = \frac{q}{p}$ 이다. $p + q$ 의 값을 구하시오. (단, p, q 는 서로소인 자연수이다.) [4점]

- 37 한 변의 길이가 6인 정사면체 OABC가 있다. 세 삼각형 $\triangle OAB$, $\triangle OBC$, $\triangle OCA$ 에 각각 내접하는 세 원의 평면 ABC 위로의 정사영을 각각 S_1 , S_2 , S_3 이라 하자. 그림과 같이 세 도형 S_1 , S_2 , S_3 으로 둘러싸인 어두운 부분의 넓이를 S 라 할 때, $(S + \pi)^2$ 의 값을 구하시오. [4점]

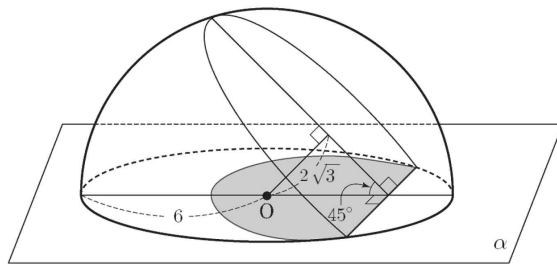


2007년 9월 평가원 가형 23번

- 38 좌표공간에서 xy 평면 위의 원 $x^2 + y^2 = 1$ 을 C 라 하고, 원 C 위의 점 P 와 점 $A(0, 0, 3)$ 을 잇는 선분이 구 $x^2 + y^2 + (z-2)^2 = 1$ 과 만나는 점을 Q 라 하자. 점 P 가 원 C 위를 한 바퀴 돌 때, 점 Q 가 나타내는 도형 전체의 길이는 $\frac{b}{a}\pi$ 이다. $a+b$ 의 값을 구하시오. (단, 점 Q 는 점 A 가 아니고, a, b 는 서로소인 자연수이다.) [4점]

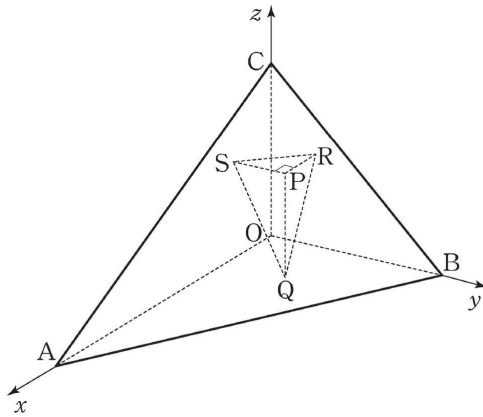


- 39 반지름의 길이가 6인 반구가 평면 α 위에 놓여 있다. 반구와 평면 α 가 만나서 생기는 원의 중심을 O 라 하자. 그림과 같이 중심 O 로부터 거리가 $2\sqrt{3}$ 이고 평면 α 와 45° 의 각을 이루는 평면으로 반구를 자를 때, 반구에 나타나는 단면의 평면 α 위로의 정사영의 넓이는 $\sqrt{2}(a + b\pi)$ 이다. $a + b$ 의 값을 구하시오. (단, a, b 는 자연수이다.) [4점]

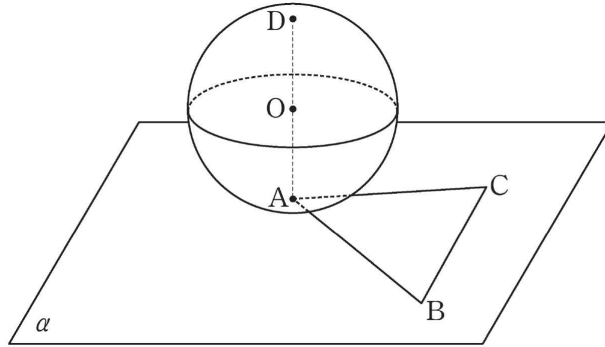


2006년 11월 수학능력시험 가형 23번

- 40 좌표공간에서 평면 $x + 2y + 2z = 54$ 위의 세 점 $A(54, 0, 0)$, $B(0, 27, 0)$, $C(0, 0, 27)$ 을 꼭짓점으로 하는 삼각형 ABC 의 내부에 점 $P(x, y, z)$ 가 있다. 점 P 의 xy 평면 위로의 정사영을 Q , yz 평면 위로의 정사영을 R , zx 평면 위로의 정사영을 S 라 하자. $\overline{QR} = \overline{QS}$ 일 때, 사면체 $QPRS$ 의 부피의 최댓값을 구하시오. [4점]

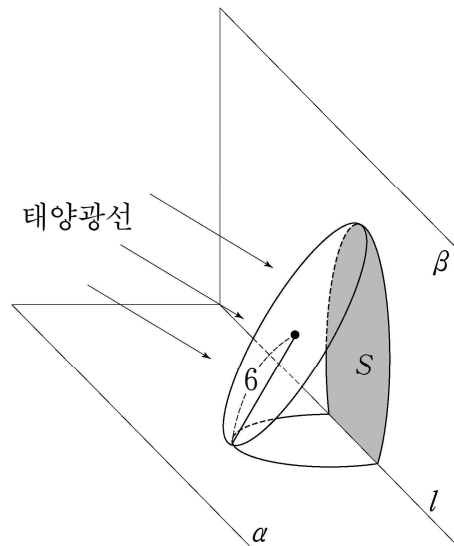


- 41 그림과 같이 평면 α 위에 한 변의 길이가 3인 정삼각형 ABC가 있고, 반지름의 길이가 2인 구 S 는 점 A에서 평면 α 에 접한다. 구 S 위의 점 D에 대하여 선분 AD가 구 S 의 중심 O를 지날 때, $|\overrightarrow{AB} + \overrightarrow{DC}|^2$ 의 값을 구하시오. [4점]

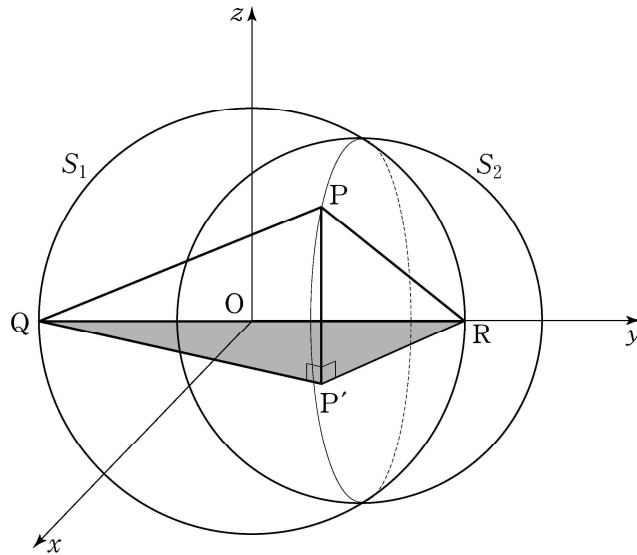


2006년 9월 평가원 가형 25번

- 42 서로 수직인 두 평면 α , β 의 교선을 l 이라 하자. 반지름의 길이가 6인 원판이 두 평면 α , β 와 각각 한 점에서 만나고 교선 l 에 평행하게 놓여 있다. 태양광선이 평면 α 와 30° 의 각을 이루면서 원판의 면에 수직으로 비출 때, 그림과 같이 평면 β 에 나타나는 원판의 그림자의 넓이를 S 라 하자. S 의 값을 $a + b\sqrt{3}\pi$ 라 할 때, $a + b$ 의 값을 구하시오. (단, a, b 는 자연수이고 원판의 두께는 무시한다.) [4점]



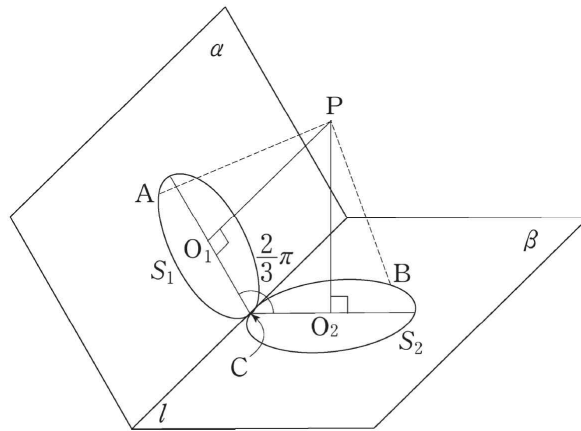
43 두 구 $x^2 + y^2 + z^2 = 81$, $x^2 + (y-5)^2 + z^2 = 56$ 을 각각 S_1 , S_2 라 하자. 두 구 S_1 , S_2 가 만나서 생기는 원 위의 한 점을 P 라 하고, 점 P 의 xy 평면 위로의 정사영을 P' 이라 하자. 구 S_1 과 y 축이 만나는 점을 각각 Q, R 라 할 때, 사면체 PQP'R 의 부피의 최댓값을 구하시오. [4점]



2005년 11월 수학능력시험 가형 24번

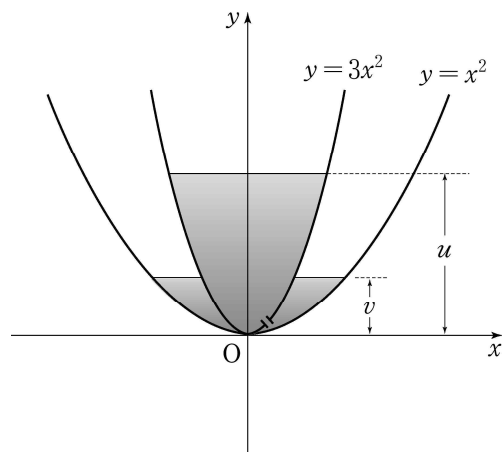
- 44 구 $x^2 + y^2 + z^2 = 4$ 와 평면 $z = -1$ 이 만나서 생기는 원을 C 라 하자. x 축을 포함하는 평면 α 와 구 $x^2 + y^2 + z^2 = 4$ 가 만나서 생기는 원이 C 와 오직 한 점에서 만날 때, 평면 α 의 한 법선벡터를 $\vec{n} = (a, 3, b)$ 라 하자. $a^2 + b^2$ 의 값을 구하시오. [4점]

- 45 두 평면 α, β 의 교선을 l 이라 하자. 평면 α 위에 있는 원 S_1 과 평면 β 위에 있는 원 S_2 는 반지름의 길이가 모두 2 이다. 그림과 같이 원 S_1 과 원 S_2 는 점 C 에서 직선 l 과 접한다. S_1 의 중심 O_1 을 지나고 평면 α 에 수직인 직선과 S_2 의 중심 O_2 를 지나고 평면 β 에 수직인 직선이 만나는 점을 P 라 하자. $\angle O_1CO_2 = \frac{2}{3}\pi$ 일 때, S_1 위에 있는 임의의 점 A 와 S_2 위에 있는 임의의 점 B 에 대하여 $|\overrightarrow{PA} + \overrightarrow{PB}|$ 의 최대값을 M , 최소값을 m 이라 하자. $M + m$ 의 값을 구하시오. [4점]



2004년 11월 수학능력시험 가형 29번

46 곡선 $y = 3x^2$ ($0 \leq y \leq 10$)을 y 축 둘레로 회전시킨 회전체 A 와 곡선 $y = x^2$ ($0 \leq y \leq 10$)을 y 축 둘레로 회전시킨 회전체 B 가 있다. 처음에는 물이 A 의 안쪽에만 차 있다가 원점 O 부근의 작은 구멍을 통하여 A 의 바깥쪽과 B 의 안쪽으로 둘러싸인 부분으로 흘러 나가기 시작한다. A 의 안쪽 수면의 높이를 u , A 의 바깥쪽 수면의 높이를 v 라 할 때, v 가 u 의 $\frac{1}{2}$ 이 되는 순간의 $\frac{dv}{du}$ 의 값은? [4점]



① -2

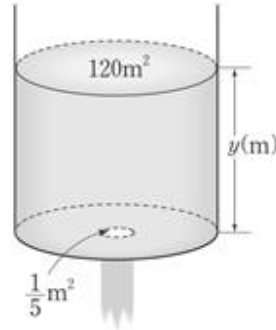
② -1

③ $-\frac{1}{2}$

④ $\frac{1}{2}$

⑤ 2

47 단면의 넓이가 $120 \text{ (m}^2\text{)}$ 로 일정한 원통형의 물탱크에 물이 5 (m) 까지 차 있다. 이 물탱크의 바닥 중앙에 있는 넓이 $\frac{1}{5} \text{ (m}^2\text{)}$ 인 구멍으로 물이 빠지고 있다. 물탱크의 바닥으로부터 수면까지의 높이가 $y \text{ (m)}$ 일 때, 빠져나가는 물의 속력 $v \text{ (m/초)}$ 는 $v = \sqrt{20y}$ 로 주어진다 하자. 다음은 이 식을 이용해서 물의 높이가 5 (m) 에서 $\frac{5}{4} \text{ (m)}$ 로 줄어들 때까지 걸리는 시간을 계산한 것이다.



v 와 y 가 시간에 따라 변하므로
 v 와 y 의 관계식 $v = \sqrt{20y}$ 를 t 에 관하여 미분하여
 v 와 y 의 시간에 따른 변화율 사이의 관계식을 구하면

$$\frac{dv}{dt} = \frac{10}{\sqrt{20y}} \frac{dy}{dt} = \frac{10}{v} \frac{dy}{dt} \dots\dots (1)$$

한편, 물탱크에 있는 물의 양의 순간변화율은 그 순간 빠져나가는 물의 양과 부호만 다르므로

(가) $\dots\dots (2)$

(2)식에서 얻은 $\frac{dy}{dt}$ 를 (1) 식에 대입하여 정리하면

$$\frac{dv}{dt} = -\frac{1}{60}$$

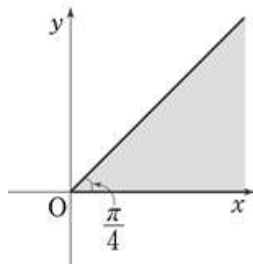
따라서 구하는 시간은 (나) (초)이다.

위의 풀이에서 (가), (나)에 알맞은 것을 차례로 나열한 것은? [4점]

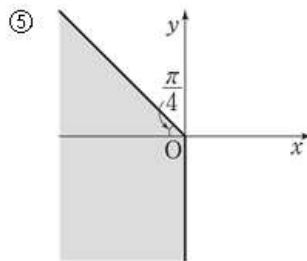
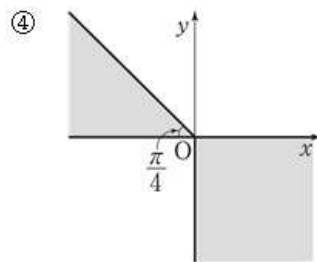
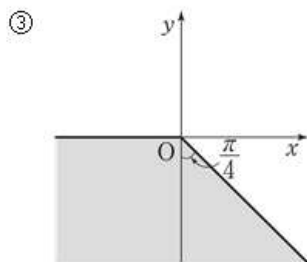
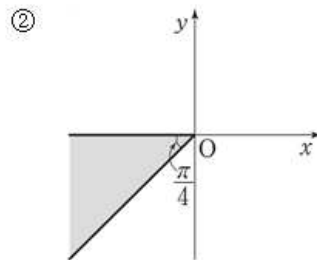
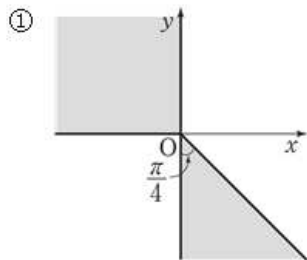
- | | (가) | (나) | (가) | (나) |
|---------------------------------------|-----|---------------------------------------|-----|-----|
| ① $120 \frac{dy}{dt} = -\frac{v}{5}$ | 240 | ② $120 \frac{dy}{dt} = -\frac{v}{5}$ | 300 | |
| ③ $120 \frac{dy}{dt} = -\frac{v}{10}$ | 180 | ④ $120 \frac{dy}{dt} = -\frac{v}{10}$ | 240 | |
| ⑤ $120 \frac{dy}{dt} = -\frac{v}{10}$ | 300 | | | |

2003년 9월 평가원 가형 12번

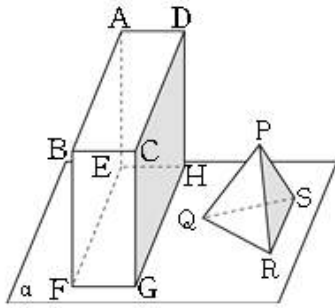
48 아래 그림의 어두운 영역에 속하는 모든 점 A 에 대하여 두 벡터 \overrightarrow{OA} 와 \overrightarrow{OB} 의 내적이 $\overrightarrow{OA} \cdot \overrightarrow{OB} \leq 0$ 을 만족시키는 점 B 가 있다.



이러한 모든 점 B 의 영역을 좌표평면 위에 바르게 나타낸 것은? (단, 어두운 부분의 경계선은 포함한다.) [3점]



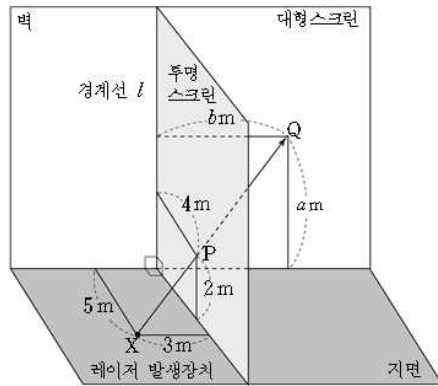
49 그림과 같이 직육면체 ABCDEFGH와 한 변의 길이가 1 인 정사면체 PQRS가 평면 α 위에 놓여있다. 변 GH와 변 RS가 평행할 때, 삼각형 PRS의 평면 CGHD 위로의 정사영의 넓이는? [3점]



- ① $\frac{\sqrt{3}}{2}$
- ② $\frac{\sqrt{2}}{3}$
- ③ $\frac{\sqrt{6}}{6}$
- ④ $\frac{\sqrt{3}}{8}$
- ⑤ $\frac{\sqrt{6}}{12}$

2003년 9월 평가원 가형 19번

- 50 그림과 같이 지면과 수직인 벽면에 대형 스크린을 붙여 세우고 투명 스크린을 벽면과 지면에 모두 수직이 되도록 설치하여 벽면과 투명 스크린이 만나는 경계선을 l 이라고 하자. 벽면으로부터 5m, 투명 스크린으로부터 3m 떨어진 지면 위의 점 X 에 레이저 발생장치를 설치하고, 경계선 l 로부터 4m, 지면으로부터 2m 떨어진 투명 스크린 위의 점 P 를 향해 레이저 광선을 비춘다. 점 P 를 통과한 레이저 광선이 지면으로부터 a m, 경계선 l 로부터 b m 떨어진 대형 스크린 위의 점 Q 에 도달할 때, $a + b$ 의 값은? (단, 레이저 광선이 투명 스크린을 통과할 때의 굴절은 무시한다.) [3점]



- ① 16 ② 18 ③ 20
 ④ 22 ⑤ 24

빠른 정답

01 기하와 벡터

1. 53 2. 12 3. 31 4. ⑤ 5. 136
6. 27 7. 7 8. 19 9. 12 10. 15
11. 50 12. 40 13. 9 14. 11 15. 24
16. 14 17. ② 18. 8 19. ① 20. 32
21. 45 22. 8 23. ⑤ 24. 17 25. ⑤
26. 30 27. ⑤ 28. 20 29. ③ 30. 40
31. 30 32. 25 33. 15 34. 30 35. ①
36. 11 37. 27 38. 11 39. 15 40. 216
41. 43 42. 34 43. 84 44. 27 45. 12
46. ② 47. ② 48. ⑤ 49. ③ 50. ④