


1단원

동아시아 역사의 시작 - 03. 선사 문화 ~ 04. 국가의 성립과 발전

▶(가)에 들어갈 유물로 가장 적절한 것은?(6모-01-2)

이것은 신석기 시대 창장강 하류 지역에서 발달한  
허우두 문화를 대표하는 토기입니다. 표면에 동물  
그림이 그려져 있는 것이 특징입니다.



- ①
- ②
- ③
- ④
- ⑤

▶(가)에 들어갈 유물로 가장 적절한 것은?(9모-01-2)

얼리터우 문화 탐구 보고서

◇조사 지역: 황허강 중류 일대

◇대표 유적: 얼리터우 1호 궁전 터

- 면적: 약 10,000㎡
- 특징: 궁문 터와 회랑 자리 발견  
주변에 청동기 제작소 터 확인

◇대표 유물:

(가)

- ①
- ②
- ③
- ④
- ⑤

FINAL CHECK!!

1단원

동아시아 역사의 시작 - 04. 국가의 성립과 발전

▶ 다음 황제에 대한 설명으로 옳은 것은?(6모-02-3)



- ① 다이카 개신을 단행하였다.
- ② 남비엣(남월)을 정복하였다.
- ③ 준왕을 몰아내고 집권하였다.
- ④ 최초로 황제의 칭호를 사용하였다.
- ⑤ 신라와 연합하여 백제를 멸망시켰다.

FINAL CHECK!!

▶ (가), (나) 시기 사이에 있었던 사실로 옳은 것은?(9모-03-3)

(가) 황제가 병사를 거느리고 흉노를 격파하기 위해 평성에 도착하였다. 목푼 선우의 군대가 백등산을 에워싸니 황제가 포위되는 치욕을 겪었다. 목푼이 군사를 이끌고 돌아간 다음 황제가 사신을 보내 화친 조약을 맺었다.

(나) 황제가 왜의 남쪽에 있는 노국 사신에게 금인을 하사한 해에 남흉노에서 새로운 선우가 즉위하였다. 그리고 2년 후, 북흉노 가운데 일부 무리가 황제에게 항복하였다.

- ① 남월(남비엣)이 정복되었다.
- ② 고구려가 낙랑군을 몰아냈다.
- ③ 진시황제가 분서갱유를 단행하였다.
- ④ 한족이 강남으로 이동하여 동진을 세웠다.
- ⑤ 히미코가 야마타이국의 왕으로 추대되었다.

2단원

동아시아 세계의 성립과 변화 - 01. 인구 이동과 정치·사회 변동 ~ 02. 국제 관계의 다원화

▶(가)에 들어갈 내용으로 가장 적절한 것은?(6모-03-2)

FINAL CHECK!!

○○고등학교 역사 동아리 발표회


**주제** 7세기 이전 동아시아의 인구 이동

1. 위만 집단의 이주 배경
2. 부여족 집단의 이동 결과
3. 5호의 남하와 동진 건국
4. (가)

■ 일시: 2020년 6월 ○○일 ○○시  
■ 장소: 강당

- ① 탕구트족의 서하 건국
- ② 5대 10국의 분열과 통일
- ③ 호라즘 정벌과 서역 원정
- ④ 행성 설치와 다루가치 파견
- ⑤ 도웨인의 활동과 야마토 정권 발전

▶(가) 국가에 대한 설명으로 옳은 것은?(9모-04-2)



그림은 (가) 황실이 궐양에 세운 영녕사의 9층 목탑 상상도이다. 신비족이 세운 이 나라는 화북을 통일한 이후 남제 정벌을 내세워 궐양으로 천도하였다. (가)은/는 궐양에 영녕사를 비롯해 1,300여 사찰을 둘 정도로 불교를 중시하였다.

- ① 왕망에 의해 멸망하였다.
- ② 다이카 개신을 단행하였다.
- ③ 토번에 화번공주를 보냈다.
- ④ 고구려와 조공·책봉 관계를 맺었다.
- ⑤ 위만이 준왕을 몰아내고 왕위에 올랐다.

2단원

동아시아 세계의 성립과 변화 - 02. 국제 관계의 다원화

▶(가) 제국의 대외 관계에 대한 설명으로 옳은 것은?(6모-06-3)

FINAL CHECK!!

○ 여러 왕자들이 개평부에 모여서 관례에 따라 무릎을 꿇고 충성을 서약하며 쿠빌라이를 (가)의 칸으로 추대하였다.

○ (가)은/는 교초인 중통원보를 발행하여 각 지방에 유통시켰다. 중통원보를 오래 사용하여 낡으면 관청에서 새것으로 바꾸어 주었다.

- ① 쩐 왕조를 공격하였다.
- ② 진연의 맹약을 맺었다.
- ③ 백강 전투에서 패배하였다.
- ④ 야마타이국의 조공을 받았다.
- ⑤ 막부에 통신사를 파견하였다.

▶(가), (나) 시기 사이에 있었던 사실로 옳은 것은?(9모-08-3)

(가) 적이 수도 탕롱을 공격해 함락하였다. 쩐흥다오가 「격장사」라는 글로 병사들의 사기를 높여, 적을 격파하고 탕롱을 탈환하였다.

(나) 막부의 쇼군은 요시노의 남조와 교토의 북조로 나뉘어 있던 조정을 하나로 통합하여 분열을 종식하였다.

- ① 3포 왜란이 일어났다.
- ② 오닌의 난이 발생하였다.
- ③ 몽골이 호라즘을 정복하였다.
- ④ 주원장이 난징을 수도로 삼았다.
- ⑤ 조선이 쓰시마섬을 정벌하였다.

2단원

동아시아 세계의 성립과 변화 - 02. 국제 관계의 다원화

▶ 밑줄 친 '그'에 대한 설명으로 옳은 것은?(6모-04-2)

FINAL CHECK!!

3대 쇼군인 그는 명 황제에게 사신단을 파견하여 조공을 바쳤다. 황제는 그들을 후하게 예우한 뒤 무로마치로 돌려보내며, 무역을 할 수 있는 감함과 일본 국왕임을 인정하는 금인을 하사하였다. 이로써 일본은 중국과 감함 무역을 시작하였다.

- ① 청해진을 설치하였다.
- ② 백등산 전투에서 패배하였다.
- ③ 남북조의 혼란을 수습하였다.
- ④ 가마쿠라에 막부를 수립하였다.
- ⑤ 다케다 가쓰요리의 군대를 격파하였다.

▶ 교사의 질문에 대한 학생의 답변으로 가장 적절한 것은?(9모-07-3)



- ① 몽골의 공격으로 멸망하였어요.
- ② 남송과 강화 조약을 체결하였어요.
- ③ 고구려와 협력하여 당에 맞섰어요.
- ④ 후진으로부터 연운 16주를 할양받았어요.
- ⑤ 거란과의 담판으로 강동 6주를 확보하였어요.

2단원

동아시아 세계의 성립과 변화 - 03. 유학과 불교

▶ 다음 율령을 반포한 국가에 대한 설명으로 옳은 것은?(6모-07-3)

○ 6세 이상의 남녀에게 각각 구분전을 지급한다. 양민에게 지급하는 면적은 남자가 2단, 여자는 그 3분의 2로 정한다.

○ 중무성은 좌변관 관할하에 있으며 조칙의 문안을 심사한다.

○ 백성은 조(租)·용(庸)·조(調)를 부담하며, 조(租)는 미곡, 용(庸)과 조(調)는 삼베와 비단 등의 현물로 납부한다.

- ① 신기관을 설치하였다.
- ② 3성 6부제를 운영하였다.
- ③ 독서삼품과를 실시하였다.
- ④ 맹안·모극제를 시행하였다.
- ⑤ 선우 아래 좌현왕과 우현왕을 두었다.

FINAL CHECK!!

▶ (가) 국가에 대한 설명으로 옳은 것은?(9모-06-2)

이것은 (가) 현종 시기에 시행된 문서 행정에 관한 법률 조문의 일부입니다. 이처럼 관리가 영을 어기면 율에 따라 처벌을 받아야 했고, 3성의 하나인 상서성 소속의 형부에서 그 사안을 다루었습니다.

○ 관문서에 문자가 빠졌거나 잘못 쓰인 것은 장관에게 물어서 바르게 고친다.  
- 공식령 -

○ 관문서에 잘못이 있는데 장관에게 묻지 않고 고친 자는 태형 40대에 처한다.  
- 직제율 -



- ① 정복지에 도호부를 설치하였다.
- ② 행정을 총괄하는 태정관을 두었다.
- ③ 지방 통치를 위해 행성을 설치하였다.
- ④ 도서와 문서를 관장하는 문적원을 두었다.
- ⑤ 관리 선발을 위해 독서삼품과를 실시하였다.

2단원

동아시아 세계의 성립과 변화 - 03. 유학과 불교

▶(가)에 해당하는 문화유산으로 가장 적절한 것은?(6모-09-2)

FINAL CHECK!!



- ① 도대이사 금당(대불전)
- ② 하치만 신상
- ③ 원강 석굴 사원 대불
- ④ 대안탑
- ⑤ 불국사 3층 석탑

▶(가) 인물에 대한 설명으로 옳은 것은?(9모-02-2)

견당선을 타고 온 일본의 승려 (가) 와/과 제자 일행은 개성 4년 6월 적산 법화원에 이르러 머물고 있다. 이들이 오대산을 비롯한 여러 성지를 돌아보고자 하여, 주·현의 관문과 나무를 통과할 수 있는 공문을 청하였다. 이에 그들에게 공문을 주어 증거 문서로 삼도록 한다.

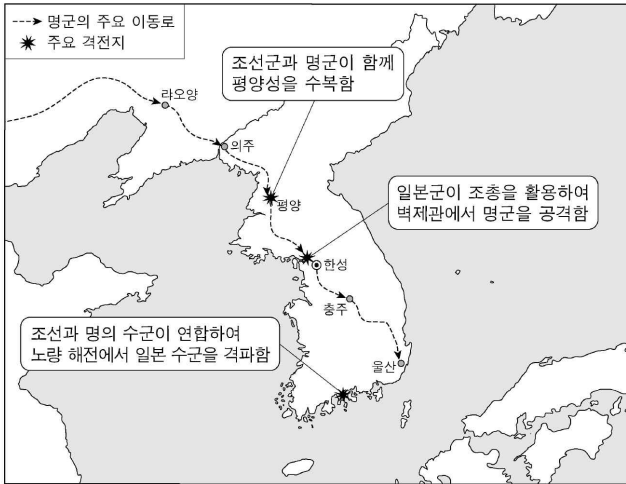
- ① 왕오천축국전을 집필하였다.
- ② 불교 공인을 위해 순교하였다.
- ③ 쇼토쿠 태자의 스승이 되었다.
- ④ 입당구법순례행기를 저술하였다.
- ⑤ 신라에서 불교 대중화에 앞장섰다.

3단원

동아시아의 사회 변동과 문화 교류 - 01. 17세기 전후 동아시아 전쟁

▶ 다음 전쟁이 전개된 시기에 있었던 사실로 옳은 것은?(6모-10-3)

FINAL CHECK!!



- ① 기유약조가 체결되었다.
- ② 몽골족이 베이징을 공격하였다.
- ③ 모문룡이 가도를 근거지로 삼았다.
- ④ 강홍립이 사르후 전투에서 투항하였다.
- ⑤ 일본이 조선 남부 4도 할양 등을 요구하였다.

▶ 밑줄 친 ‘전쟁’ 중에 있었던 사실로 옳은 것은?(9모-05-3)

적이 전쟁을 일으켜 지나는 곳마다 사람을 죽이고 해쳐, 조선 백성들의 처지가 차마 말할 수 없이 비참합니다. 조선의 국왕은 평양을 떠나 다시 피신하였습니다. 사납고 모진 적이 조선을 차지하면 분명 요동을 침범할 것입니다. 우리 영토에 적이 들어온 뒤 방어하면 이미 늦을 것입니다.

만력 20년 6월

- ① 모문룡이 가도에 주둔하였다.
- ② 청의 군대가 남한산성을 포위하였다.
- ③ 일본이 명에게 무역 재개 등을 요구하였다.
- ④ 윤관이 여진을 정벌하고 동북 9성을 쌓았다.
- ⑤ 오다 노부나가 나가시노 전투에서 승리하였다.



3단원

동아시아의 사회 변동과 문화 교류 - 01. 17세기 전후 동아시아 전쟁

▶ 밑줄 친 ‘반란’ 이 전개된 시기 동아시아에서 있었던 사실로 옳은 것은?(6모-05-3)

FINAL CHECK!!

사신이 한성에 올린 보고에 따르면, 현재 중국에서는 오삼계가 주씨의 후예를 황제로 옹립하여 거병하였고, 경정충 등도 합세하여 여러 지역을 점령하였다고 한다. 또한 이에 호응하며 타이완의 정씨 세력도 여전히 반란을 지속하고 있다고 한다.

- ① 한국 - 쓰시마섬을 공격하였다.
- ② 한국 - 후금과 형제의 맹약을 맺었다.
- ③ 중국 - 황제가 토목보에서 몽골의 포로가 되었다.
- ④ 중국 - 연해 주민을 강제 이주시키는 천계령이 시행되었다.
- ⑤ 일본 - 쇼군의 후계자 문제로 오닌의 난이 일어났다.

▶ 밑줄 친 ‘왕조’ 에 대한 설명으로 옳은 것은?(9모-13-2)

우리 왕조가 산하이관을 넘어 중원에 들어와 농민군을 몰아내고 천하에 군림한 지 80여 년이 지났다. 어질고 의로운 정치를 행하고 성현의 가르침을 널리 전하여 문화가 융성한데, 어찌 우리를 짐승과 같다고 말하는가?

- ① 송과 전연의 맹약을 체결하였다.
- ② 고려에 군신 관계를 요구하였다.
- ③ 타이완의 정씨 세력을 진압하였다.
- ④ 에도 막부에 통신사를 파견하였다.
- ⑤ 몽골 오이라트부와의 전투에서 황제가 사로잡혔다.

3단원

동아시아의 사회 변동과 문화 교류 - 02. 교역망의 발달과 은 유통

▶ 다음 대화가 이루어진 시기를 연표에서 옳게 고른 것은?(6모-12-2)

FINAL CHECK!!

중국의 동향은 어떠한가?

믈라카 왕국을 10년 전에 멸망시킨 포르투갈이 최근에 중국으로 사절을 파견하여 믈라카 지배를 인정받고자 하였으나, 중국은 이를 거절하였다고 합니다.



(가)	(나)	(다)	(라)	(마)
3포 왜란 발생	센고쿠 시대 통일	정유재란 발발	에도 막부 수립	후금 건국
병자호란 발발				

- ① (가)      ② (나)      ③ (다)      ④ (라)      ⑤ (마)

▶ (가) 인물을 파견한 국가에 대한 설명으로 옳은 것은?(9모-11-3)

이곳은 인도네시아 수라바야에 있는 이슬람 사원으로, 무슬림이었던 [(가)]의 이름을 따서 건립한 곳입니다. 그는 조공 확대를 꾀한 황제의 명령에 따라 수차례 함대를 이끌고 동남아시아를 거쳐 여러 지역을 항해하였습니다.



- ① 갈레온 무역을 주도하였다.  
 ② 왜관을 통해 일본과 교역하였다.  
 ③ 감함을 발급하여 무역을 허가하였다.  
 ④ 은 유출을 막고자 신패를 발급하였다.  
 ⑤ 말레이반도에 있는 믈라카를 점령하였다.

▶ 밑줄 친 ‘막부’의 대외 관계에 대한 설명으로 옳은 것은?(6모-14-3)

FINAL CHECK!!

텐메이 연간, 대기근으로 인하여 미곡이 유통되지 않았다. 굶주린 자들이 미곡 상점을 습격하였다. 관리들이 엄격한 단속령을 내렸음에도 민중들은 무리를 지어 약탈을 계속하였다. 이러한 사건은 180여 년 전 막부가 개창된 이래 일찍이 없었던 일이다.

- ① 금의 공격을 받아 천도하였다.
- ② 공행을 통해 서양과 교역하였다.
- ③ 고려·몽골 연합군의 공격을 막아냈다.
- ④ 대외 무역을 허가하는 슈인장을 발급하였다.
- ⑤ 무역항에 시박사를 설치하여 교역을 감독하였다.

▶ 밑줄 친 ㉠이 실시된 이후 동아시아의 상황으로 옳은 것은?(9모-09-2)

인구가 증가하여 호구를 조사하기가 어려워지자 장정 수를 속여 탈세하는 경우가 많았다. 또한 토지가 없는 가난한 장정이 늘어 인두세인 정세를 징수하기도 곤란하였다. 이에 조정은 장정에게 매기는 정세의 총액을 고정하였다. 이후 정세를 토지세에 포함시켜 징수하는 ㉠ 새로운 제도를 전국적으로 시행하였다.

- ① 한국-일본과 기유약조를 체결하였다.
- ② 중국-천계령으로 해외 출항을 금지하였다.
- ③ 중국-장거정의 주도로 재정 개혁을 실시하였다.
- ④ 일본-슈인장을 발급하여 무역을 통제하였다.
- ⑤ 일본-텐메이 연간에 재해로 기근이 발생하였다.

3단원

동아시아의 사회 변동과 문화 교류 - 03. 사회 변동과 서민 문화

▶(가) 왕조 시기 동아시아에서 볼 수 있는 모습으로 적절한 것만을 <보기>에서 고른 것은?(6모-19-2)

FINAL CHECK!!

Large empty rectangular box for writing the answer.

조선은 정기적으로 [가]에 사신단을 파견하였다. 사신단의 일원인 박지원은 수도 베이징의 서점가와 천주교 성당 등을 방문하여 중국과 서양의 문물을 접하였다. 그는 사신단의 경험을 토대로 『열하일기』라는 견문록을 남겼다. 그리고 [가]의 문물을 적극적으로 수용하자는 북학론을 홍대용 등과 함께 주장하였다.

<보 기>

- ㄱ. 홍루몽을 읽는 상인
- ㄴ. 우키요에를 구입하는 조닌
- ㄷ. 사서집주를 저술하는 주희(朱熹)
- ㄹ. 주자감(胄子監)에서 공부하는 학생

- ① ㄱ, ㄴ                      ② ㄱ, ㄷ                      ③ ㄴ, ㄷ
- ④ ㄴ, ㄹ                      ⑤ ㄷ, ㄹ

4단원

동아시아의 근대화 운동과 반제국주의 민족 운동 - 01. 새로운 국제 질서와 근대화 운동

▶(가), (나) 조약에 대한 설명으로 옳은 것은?(6모-11-3)

FINAL CHECK!!

(가)

제2조 시모다, 하코다테 이외에 추가로 4개 장소를 개항한다.  
제4조 일본의 모든 수출입품은 별도의 규정에 따라 일본 관청에서 세금을 부과한다.

(나)

제5조 프랑스인들은 다낭, 바랏, 광옌의 세 항구에서 자유로이 상업 활동을 할 수 있다.  
제6조 베트남의 영토 할양에 관한 사안은 프랑스 황제의 동의를 받아야만 한다.

- ① (가) - 라오동반도 할양을 규정하였다.
- ② (가) - 미국의 영사 재판권을 인정하였다.
- ③ (가) - 일본의 주력함 보유 비율을 제한하였다.
- ④ (나) - 포츠머스에서 조인되었다.
- ⑤ (나) - 운요호 사건을 계기로 체결되었다.

▶ 밑줄 친 '개혁'에 대한 설명으로 옳은 것은?(6모-08-2)



그림 속 인물은 청의 광서제이다. 그는 어린 나이에 황제로 즉위하였다. 1885년에 청프 전쟁에서 패배하여 베트남에 대한 중주권을 상실하였다. 1898년에는 메이지 유신을 모범으로 삼자는 강유웨이의 상주를 받아들여 체제 개혁에 대한 조서를 반포하였다.

- ① 금릉 기기국 설치의 계기가 되었다.
- ② 철도를 파괴하며 반외세를 주장하였다.
- ③ 청일 수호 조규 체결의 배경이 되었다.
- ④ 서태후 등 보수파의 반발로 실패하였다.
- ⑤ 독립신문을 통해 이권 수호 운동을 추진하였다.

4단원

동아시아의 근대화 운동과 반제국주의 민족 운동 - 01. 새로운 국제 질서와 근대화 운동

▶(가), (나)가 발표된 시기 사이에 있었던 사실로 옳은 것은?(9모-12-2)

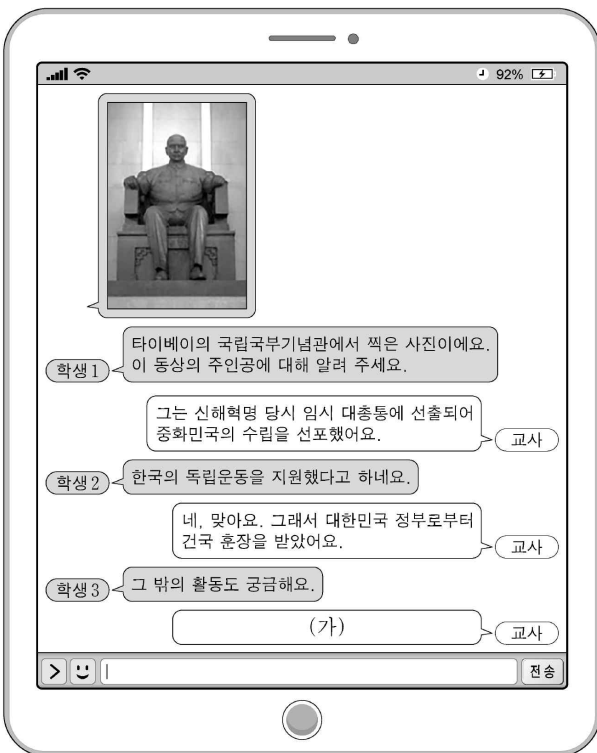
FINAL CHECK!!

(가) 무릇 정부에 조세를 내야 할 의무가 있는 자는 정부의 정책에 관여할 수 있는 권리를 갖습니다. …(중략)… 민선 의원을 설립하면 정부와 인민 사이가 돈독해져, 국가는 물론이고 정부 역시 더욱 강해질 것입니다.  
- 이타가키 다이스케 외, 민선 의원 설립을 위한 건의서 -

(나) 짐은 국가의 번창과 신민의 행복을 중심에 두고, 역대 천황으로부터 이어받은 대권에 따라 신민들에게 영원히 남을 헌법을 제정해 선포한다.  
- 「헌법 발표 칙어」 -

- ① 연합군에 의해 의화단이 진압되었다.
- ② 서태후 등의 보수파가 신정을 단행하였다.
- ③ 중의원 선거를 통해 제국 의회가 개설되었다.
- ④ 개화 정책에 대한 불만으로 임오군란이 일어났다.
- ⑤ 량치차오 등이 입헌 군주제의 도입을 추진하였다.

▶(가)에 들어갈 내용으로 가장 적절한 것은?(9모-19-3)



- ① 교육 칙어를 공포했어요.
- ② 아주 화친회를 창립했어요.
- ③ 제1차 국·공 합작을 추진했어요.
- ④ 한·중 민족 항일 대동맹을 결성했어요.
- ⑤ 국민 혁명군을 이끌고 북벌을 완수했어요.

4단원

동아시아의 근대화 운동과 반제국주의 민족 운동 - 02. 제국주의 침략과 민족 운동

▶(가), (나) 조약 체결 시기 사이에 있었던 사실로 옳은 것은?(6모-15-3)

FINAL CHECK!!

(가) 제1조 청국은 조선국이 완전무결한 독립 자주국임을 확인한다.  
 제4조 청국은 군비 배상금으로 은 2억 냡을 일본국에 지급할 것을 약속한다.

(나) 제2조 러시아 제국 정부는 일본 제국이 한국에서 정치상·군사상 및 경제상의 탁월한 이익을 갖는다는 것을 인정하고, 일본 제국 정부가 한국에서 필요하다고 인정하는 지도, 보호 및 감리의 조치를 취하는 데 이를 저지하거나 간섭하지 않을 것을 약정한다.

- ① 전주 화약이 맺어졌다.
- ② 의화단 운동이 진압되었다.
- ③ 미드웨이 해전이 발발하였다.
- ④ 일본 제국 의회가 개설되었다.
- ⑤ 도쿄에서 아주 화친회가 결성되었다.

▶(가) 지역에 대한 탐구 활동으로 가장 적절한 것은?(9모-15-3)

일본이 요구한 강화 조건 가운데 [가] 을/를 일본의 소유로 하는 것은 베이징을 위협에 빠뜨릴 수 있을 뿐만 아니라 조선의 독립을 유명무실하게 만들 수 있다. 극동의 평화를 위해 러시아 정부는 일본 정부가 [가] 의 영유를 포기할 것을 요청하는 바이다.

- ① 한국광복군이 창설된 도시를 알아본다.
- ② 난징 조약의 체결로 개항된 항구를 파악한다.
- ③ 제1차 사이공 조약을 통해 할양된 지역을 살펴본다.
- ④ 신축 조약에서 명시한 외국군의 주둔지를 찾아본다.
- ⑤ 포츠머스 조약으로 일본이 획득한 조차지를 조사한다.



4단원

동아시아의 근대화 운동과 반제국주의 민족 운동 - 02. 제국주의 침략과 민족 운동

▶ 다음 글이 작성된 시기를 연표에서 옳게 고른 것은?(6모-16-2)

FINAL CHECK!!

○○○○○ 선언문

우리 군대는 중화민국 국민과 합작하여 공동의 적인 일본 제국주의자를 타도하기 위하여 연합군의 일원으로 항쟁을 계속한다. 지난 30년간 일본이 우리 조국을 병합 통치하는 동안 우리 민족은 확고한 독립 정신을 바탕으로 불명예스러운 노예 생활에서 벗어나기 위하여 무자비한 압박자에 대한 영웅적 항쟁을 계속해 왔다.

우리들은 한·중 연합 전선에서 우리 스스로의 끊임없는 투쟁을 감행하여 극동 및 아시아 인민 중에서 자유·평등을 쟁취할 것을 약속하는 바이다.

○○○○년 ○월 ○○일 김구

	(가)	(나)	(다)	(라)	(마)
신해혁명 발발	5·4 운동 발생	워싱턴 회의 개최	신간회 창립	만주 사변 발발	일본의 진주만 기습 공격

- ① (가)      ② (나)      ③ (다)      ④ (라)      ⑤ (마)

▶ 밑줄 친 ‘사건’ 이 끼친 영향으로 옳은 것은?(9모-16-3)



▲ 리튼 조사단 일행을 접견하는 푸이 집정

국제 연맹의 조사단은 5월 5일 푸이 집정을 방문해 한 시간 정도 회담을 나누었다. 조사단은 작년 9월 18일 관동군이 일으킨 사건의 진상을 물었다. 이에 대해 푸이는 즉답을 회피하며 집정에 취임한 사정과 건국의 유래를 설명하였다.

- ① 일본의 주력함 비율이 제한되었다.  
 ② 독립군 부대가 봉오동 전투에서 승리하였다.  
 ③ 민족 유일당 운동이 일어나 신간회가 창립되었다.  
 ④ 일본의 21개조 요구를 철회하라는 시위가 일어났다.  
 ⑤ 조선 혁명군이 중국군과 함께 항일전을 전개하였다.



4단원

동아시아의 근대화 운동과 반제국주의 민족 운동 - 03. 서양 문물의 수용

▶ 밑줄 친 ‘학제’가 발표된 이후 동아시아에서 볼 수 있는 모습으로 적절하지 않은 것은?(6모-13-2)

FINAL CHECK!!

이 자료는 페번치현이 실시된 다음 해, 일본에서 발표된 학제입니다. 여기에는 근대적 국민 교육에 관한 내용이 포함되어 있습니다.

- 일반 인민은 화족·사족·농민·공인·상인 및 부녀자를 불문하고 배우지 않는 자가 없는 것을 목표로 한다. 자녀들을 반드시 학교에 다니게 하도록 해야 한다.
- 상급 학교는 그 재능에 따라 진학하지만 어린 자녀는 남녀의 구별 없이 소학교에 입학한다.



- ① 한국 - 한성순보를 읽는 학자
- ② 한국 - 경인선 개통식을 구경하는 상인
- ③ 중국 - 잡지 신청년에 기고하는 지식인
- ④ 중국 - 경사 대학당에서 수업을 받는 학생
- ⑤ 일본 - 니가타를 개항지로 결정하는 관리

▶ 다음 대화가 이루어진 해에 볼 수 있는 모습으로 가장 적절한 것은?

(9모-14-2)

어제 긴자 거리에 가 보니 벽돌 건물이 많아졌더군. 서양 물건을 파는 상점도 보였어.

맞아, 서양 문물이 많이 수용되고 있지. 작년부터는 태양력도 사용하고 있지 않나.



- ① 도쿄대학에 다니고 있는 학생
- ② 요코하마에서 기차를 타는 외국인
- ③ 옌푸의 천연론을 읽고 있는 지식인
- ④ 여학교 설립을 청원하는 찬양회 회원
- ⑤ 풍도 해전 특집 기사를 작성하는 기자

5단원

오늘날의 동아시아 - 01. 제2차 세계 대전 전후 처리와 냉전 체제

▶ 다음 자료를 활용한 탐구 활동으로 가장 적절한 것은?(6모-17-3)

FINAL CHECK!!



이것은 일본의 신헌법에 대한 이해를 돕기 위해 아키타현의 중학교에서 만든 학습 자료이다. 앞면에는 신헌법 제9조의 내용인 군사력 보유 금지가 그림으로 표현되어 있으며, 뒷면에는 '전쟁 포기'라고 적혀 있다.

- ① 양무운동의 목적을 파악한다.
- ② 을미개혁의 내용을 찾아본다.
- ③ 신문화 운동의 배경을 알아본다.
- ④ 제1차 아편 전쟁이 발발한 계기를 분석한다.
- ⑤ 태평양 전쟁 종결 후 전후 처리 과정을 조사한다.

▶ 밑줄 친 '이 조약' 에 대한 설명으로 옳은 것은?(9모-17-2)

이 조약의 제21조는 한국에 대한 특례 조항을 규정하고 있지만, 한국은 서명에 직접 참여하지 못할 것이다. 한국은 전쟁이 시작되기 훨씬 전에 독립을 잃었고, 일본이 항복한 후에야 비로소 독립을 되찾았기 때문이다. 그렇지만 많은 한국인들은 개별적으로 꾸준히 일본과 싸웠다. ...(중략)... 이 조약으로, 연합국은 일본이 한국의 독립을 공인하도록 할 것이다.

- 존 포스터 덜레스의 연설 -

- ① 일본의 주권 회복 내용을 담고 있다.
- ② 한·일 간의 국교 정상화를 합의하였다.
- ③ 소련이 대일전에 참전하는 계기가 되었다.
- ④ 제1차 세계 대전의 전후 처리를 위해 체결되었다.
- ⑤ 북위 17도선을 경계로 한 남북 분단을 명시하였다.

5단원

오늘날의 동아시아 - 01. 제2차 세계 대전 전후 처리와 냉전 체제

▶(가), (나)에 대한 설명으로 옳은 것은?(9모-18-2)

FINAL CHECK!!

(가) 중·일 양국은 오늘부터 그동안의 비정상적인 관계에 종지부를 찍었습니다. 과거 중국이 입은 손해가 컸음에도 불구하고 제5항에 따라 중화 인민 공화국 정부가 배상을 포기한 것에 대해 우리는 솔직히 이를 정당하게 평가해야 한다고 생각합니다.

(나) 미·중 양국은 오늘부터 서로를 인정하고 국교를 수립한다. 미국은 중화 인민 공화국 정부를 중국의 유일한 합법 정부로 인정하되, 타이완 사람들과는 문화·상업 및 기타 분야에서 비공식적인 관계를 유지할 것이다.

- ① (가) - 한국과 중국의 국교 수립으로부터 영향을 받았다.
- ② (가) - 베트남 민주 공화국의 수립을 선포하는 배경이 되었다.
- ③ (나) - 닉슨 독트린이 발표되는 결과를 가져왔다.
- ④ (나) - 미군이 베트남에서 전면 철수한 이후에 발표되었다.
- ⑤ (나) - 중국이 국제 연합의 상임 이사국이 되는 계기가 되었다.

5단원

오늘날의 동아시아 - 02. 경제 성장과 정치 발전

▶(가), (나) 시기 사이에 있었던 사실로 옳은 것은?(6모-18-3)

FINAL CHECK!!

(가)

(나)

OO 신문 19△△년

사회당의 좌·우파 통합에 반발하여 두 보수 정당인 민주당과 자유당이 어제 15일 합당하였다. 이로써 보수적인 지민당과 진보적인 사회당, 두 정당이 정치를 주도하게 될 것으로 예상된다.

OO 신문 19□□년

미국의 존슨 대통령은 어제 있었던 북베트남에 대한 군사 행동이 며칠 전 통킹만 공해를 향해 중인 미국 군함 매덕스호를 불시에 공격한 것에 대한 보복이라고 주장하였다.

- ① 4·19 혁명이 일어났다.
- ② 애치슨 라인이 발표되었다.
- ③ 한일 기본 조약이 체결되었다.
- ④ 구동 국제 군사 재판이 열렸다.
- ⑤ 베트남 사회주의 공화국이 수립되었다.

▶ 다음 자료를 활용한 탐구 주제로 가장 적절한 것은?(9모-20-3)

○ 지금 우리의 목적은 자본주의의 길을 걷는 류사오치 등 당권파와 싸우고, 모든 상부 구조를 개혁함으로써 사회주의 체도를 굳건히 하고 발전시키는 것이다.

○ 마오쩌둥이 나이 어린 중학생과 고교생, 말단 노동자, 하층 빈민 등에게 호소하여, 실질적으로 당 지도 세력을 공격 하라고 요청하고 있다.


- ① 6월 민주 항쟁의 결과
- ② 홍위병의 활동과 영향
- ③ 천수이볜 집권의 의미
- ④ 55년 체제의 성립 배경
- ⑤ 도이머이 정책의 주요 내용

5단원

오늘날의 동아시아 - 02. 경제 성장과 정치 발전

▶ 밑줄 친 ‘이 운동’ 이 전개된 시기 동아시아에서 있었던 사실로 옳은 것은?(6모-20-2)

중국 공산당은 1958년부터 생산력을 비약적으로 증대시키기 위해 이 운동을 전개하였습니다. 이곳 푸젠성에는 철강 생산을 위해 당시 만들어진 용광로가 남아 있습니다. 급진적 공산주의화를 추진했던 이 운동은 비록 실패로 끝났지만, 용광로는 현재 문화재로 보호되고 있습니다.



- ① 합병법이 제정되었다.
- ② 인민공사가 조직되었다.
- ③ 도이머이 정책이 채택되었다.
- ④ 제1차 석유 파동이 발생하였다.
- ⑤ 남순 강화를 통해 개혁·개방이 가속화되었다.

FINAL CHECK!!

Empty rectangular box for final check or answer writing.

도시 역사 베이징

▶(가) 도시에 대한 설명으로 옳은 것은?(9모-10-3)

FINAL CHECK!!

성경(선양)을 지나온 우리 사절단 일행이 황제의 생일을 축하하기 위해 목적지인 (가)에 도착하자, 사람들의 어깨가 맞닿고 수레의 바퀴가 부딪힐 정도로 변화한 모습이 보였다. 강남의 쌀이 운하를 통해 (가)에 운송되고, 각종 물품이 전국에서 집결된다고 한다. 내일은 유리창 거리에 가서 우리나라에서 구하기 어려운 서적과 탁본을 구입하고, 근래 이 도시에서 발전했다는 경극도 구경하려 한다.

- ① 금릉 기기국이 설립된 곳이다.
- ② 고소번화도의 배경이 되었던 곳이다.
- ③ 신라 사신과 유학생이 방문한 곳이다.
- ④ 송이 금의 침략을 받아 천도했던 곳이다.
- ⑤ 제2차 아편 전쟁의 결과로 조약이 체결된 곳이다.

Empty box for final check or answer.