

제 4 교시

사회탐구 영역(동아시아사)

성명


수험 번호

제 ( ) 선택

1. (가)에 들어갈 유물의 사진으로 옳은 것은?


동아시아 신석기 문화 열람

◆ ○○○ 문화의 대표적인 유물



(가)

오산리 유적에서 출토된 덧무늬 토기이다. 돌보습, 돌괭이와 함께 출토된 것으로 보아 당시에는 농경 사회가 정착되어 있었음을 짐작할 수 있다.



2. (가) 황제에 대한 설명으로 옳은 것은? [3점]

이 탁본은 태산에 위치한 낭야대각석을 본뜬 것입니다. (가)이 전국 시대를 통일한 뒤 문자를 통일하여 정립된 정갈한 서체인 소전체(小篆體)로 황제의 치적을 예찬하는 내용을 담고 있습니다. (가)은/는 지방을 순시하며 이러한 각석을 곳곳에 세웠습니다.



- ① 장건을 대월지에 파견하였다.
- ② 평성에서 튀양으로 천도하였다.
- ③ 한위노국왕 금인을 하사하였다.
- ④ 몽염을 파견하여 흉노를 몰아냈다.
- ⑤ 항우(초)와의 전쟁에서 승리하였다.

3. 밑줄 친 '요즘' 시기에 볼 수 있는 모습으로 옳지 않은 것은?

요즘 안방의 부녀자들이 소설 읽기를 좋아하니 한글 소설의 종류가 나날이 늘어 그 수가 천여 종에 이르렀다. 채가(儻家)는 이것을 깨끗이 베껴 써서 책을 빌려주는 일을 하였는데, 빌려줄 때마다 돈을 받아 이익을 보았다. 부녀자들은 비녀를 팔거나 흑빛을 내면서까지 경쟁하듯이 빌려가 그것으로 긴 해를 보냈다.

- ① 한국 - 장사에서 감자와 옥수수를 파는 상인
- ② 일본 - 조카마치에서 가부키를 공연하는 배우
- ③ 일본 - 데라코야에서 글쓰기를 가르치는 학자
- ④ 중국 - 벽에 연화를 걸고 다산을 기원하는 여인
- ⑤ 중국 - 초원길의 역참에서 휴식을 취하는 나그네

4. 밑줄 친 ㉠, ㉡ 국가에 대한 설명으로 옳은 것은? [3점]

㉠ 귀국과 ㉡우리가 떨어져 있는 거리가 1만 리나 됩니다. 비록 남쪽의 큰 바닷물은 하늘을 넘칠 정도라서 바람과 구름을 예측하기 어렵다고 하더라도, 태양이 동쪽에서 떠서 비추면 항해의 길이 쉽게 드러날 수 있습니다. 그런 까닭에 ㉠우리는 정당성 좌운 하복연을 귀국에 파견하여 과거와 같이 양국 사이의 절친함을 두텁게 하고자 합니다. 이에, 규칙에 따라 ㉠ 귀국의 태정관에 글을 올립니다.

- 함화 11년 중대성 칙 -

<보기>

- ㉠. ㉠ - 대장성이 재정 업무를 담당하였다.
- ㉡. ㉠ - 나하항이 중계 무역으로 번성하였다.
- ㉢. ㉡ - 좌사정과 우사정이 6부를 관장하였다.
- ㉣. ㉡ - 독서삼품과를 관리 선발에 참고하였다.

- ① ㉠, ㉡    ② ㉠, ㉢    ③ ㉡, ㉣    ④ ㉠, ㉣    ⑤ ㉢, ㉣

5. (가) 막부에 대한 설명으로 옳은 것은?

(가) 막부의 쇼군이 우리 나라의 승상에게 올리는 문서를 보냈는데, 그 내용이 오만불손하였다. 이에 흥무제는 조공받는 것을 거부하고, 사신을 통해 조서를 내려 꾸짖었다. ... (중략) ... 연왕 주체가 정변을 일으켜 황제에 즉위하자 사신을 파견하여 등급을 알리는 조서를 내렸다. ... (중략) ... (가) 막부의 사신이 와서 3대 쇼군의 표문과 공물을 바쳤다. 황제가 그들을 후하게 예우하였다.

- ① 감합 무역을 전개하였다.
- ② 센고쿠 시대를 통일하였다.
- ③ 폐번치현의 조치를 단행하였다.
- ④ 크리스티교 금지령을 선포하였다.
- ⑤ 미나모토노 요리토모가 개창하였다.

동아시아사

6. (가)에 들어갈 탐구 주제로 가장 적절한 것은?


**동아시아사 수행평가 계획서**

○○고등학교 3학년 □반 1모둠


1. 주제 :

2. 수집 자료

- ◆ 돌무지무덤 양식



▣ 고구려 장군총



▣ 백제 석촌동 고분

- ◆ 『삼국사기』 백제본기

“주몽이 낳은 아들이 와서 태자가 되자, 비류와 온조는 태자에게 용납되지 않을 것을 두려워하였다. 마침내 오간, 마려 등 신하들과 함께 남쪽으로 가니 백성 가운데 그를 따르는 이가 많았다.”

- ① 한족의 이동과 강남 지역의 개발
- ② 부여족의 남하와 지배 집단의 계승
- ③ 쇼토쿠 태자가 장려한 아스카 문화
- ④ 전쟁을 통한 각국의 문물 교류 사례
- ⑤ 도왜인의 활동과 야마토 정권의 발달

7. (가) 사상에 대한 설명으로 옳은 것은? [3점]

이 행사는 시흥 문화원에서 매년 10월에 소론의 거두였던 정제두 선생을 기리는 추모제행입니다. 추국 정제두 선생은 주류 학문을 배격하고 (가) 사상을 연구하며 강화도에 낙향하였습니다. 그를 따르는 제자들을 일컬어 소위 강화학파라고 하기도 합니다.



- ① 심즉리와 지행합일을 강조하였다.
- ② 공영달의 오경정의를 집대성되었다.
- ③ 실증적 방법으로 금석문을 연구하였다.
- ④ 도교의 형이상학적 논리 체계를 수용하였다.
- ⑤ 불교가 신토(신도)와 결합된 형태로 나타났다.

8. (가), (나) 시기 사이에 있었던 사실로 옳은 것은? [3점]

(가) 베이징 교외를 통과하는 용딩강의 루거우차오에서 장쉐량이 이끄는 제29군이 주둔해 있었다. 공교롭게도 일본군이 훈련 도중 몇 발의 총소리가 난 이후 병사 한 명이 행방불명되자 일본은 이를 중국의 탕으로 돌리며 총공격을 예고하였다.

(나) 일본군이 프랑스의 비시 정부로부터 인도차이나반도 전역에 대한 동의를 획득하자 미국의 루스벨트 대통령은 국제적인 대일 석유 수출 금지 조치를 발동하여 해외에서 일본으로 향하는 석유 공급을 원천적으로 차단하였다.

- ① 미드웨이 해전이 발발하였다.
- ② 장쉐량이 장제스를 감금하였다.
- ③ 중화민국이 충칭으로 천도하였다.
- ④ 일본이 국제 연맹에서 탈퇴하였다.
- ⑤ 극동 국제 군사 재판이 개최되었다.

9. (가) 왕조에 대한 설명으로 옳은 것만을 <보기>에서 찾아 모두 고른 것은? [3점]

근래에 타이완의 소요 사태가 진정되어 해금령이 완화되었고 나가사키를 왕래하는 (가) 상인들이 늘어났습니다. 이들이 주로 생사와 비단을 파는데 그 가격이 너무 올라 우리 나라의 은 유출이 매우 심합니다. 그러므로 하루빨리 특수한 무역 허가증을 발급하여 (가) 상인의 활동을 제한하는 것이 필요합니다.

— <보 기> —

ㄱ. 영국에 주룽반도를 할양하였다.

ㄴ. 에도 막부와 국교를 수립하였다.

ㄷ. 서양과의 무역을 광저우로 제한하였다.

ㄹ. 포르투갈에 마카오 거주권을 양도하였다.

- ① ㄱ, ㄴ    ② ㄱ, ㄷ    ③ ㄴ, ㄷ    ④ ㄴ, ㄹ    ⑤ ㄷ, ㄹ

10. (가) 인물에 대한 설명으로 옳은 것은?

동아시아사 소나무위키 #동아시아#경제치용#고문서

분초강목    **농정전서**    천공개물    과농소초

★ 저자 : (가)

★ 발간 : 1639년 진자룡이 엮어 간행함

★ 특징 : 저자는 마테오 리치와 교류하며 서양 학문에도 깊은 이해를 가지고 새로 수입된 수력학(水力學)과 지리학도 참고하였음

★ 내용 : 한나라 이후 중국 역대 농학자들의 학설을 총괄, 분류하고 수시로 설을 첨부하여 집대성한 책이다.



◀ 이미지 뷰어 ▶

- ① 해체신서를 번역하였다.
- ② 기하원본을 간행하였다.
- ③ 원명원 설계에 참여하였다.
- ④ 역법을 시헌력으로 개정하였다.
- ⑤ 훈련도감에서 서양식 총포를 제작하였다.

11. 밑줄 친 '전쟁'의 영향으로 가장 적절한 것은? [3점]

후금에게 몇 차례 성공적인 일격을 가하였음에도 곧 역습에 휘말려 후퇴하던 모문룡은 조선으로 피신하였다. 조선 왕은 장차 모문룡이 후금과의 관계에서 문제가 될 것을 염려하여 그에게 섬으로 들어갈 것을 제안하였다. 그가 지휘하던 부대는 이렇게 가도로 들어가 동강진을 설치하였다. 하지만 이 사건은 이후 외교적 문제로 번져 이듬해 일어난 전쟁의 원인이 되었다.


- ① 조천사의 파견이 중지되었다.
- ② 서인이 친명배금 정책을 추진하였다.
- ③ 후금과 조선이 형제의 맹약을 맺었다.
- ④ 오삼계가 청군의 베이징 입성을 도왔다.
- ⑤ 강홍립이 사르후 전투에서 후금에 투항하였다.

12. (가)에 들어갈 말로 가장 적절한 것은?

부처멸망을 기치로 내세워 산둥반도에서 시작된 봉기가 8개국 연합군에 의해 점령되자 청과 8개국 연합군은 협상 테이블에 앉았어.

8개국 연합군의 일원이었던 열강들은 이 조약에 의거해 베이징에 군대를 주둔시켰지. 그런데 여기서 외교적으로 예상치 못한 문제가 생겼어.

그래 맞아. (가) 때문에 의화단 진압 작전에 협력을 했던 일본이 크게 반발하고 나선 거야. 이로 인해 양국 사이의 긴장이 고조되었어.




- ① 독일이 칭다오를 조차한 것
- ② 프랑스가 강화도를 침략한 것
- ③ 영국이 거문도를 불법 점령한 것
- ④ 러시아가 만주에 군대를 주둔시킨 것
- ⑤ 청이 조선의 요청으로 원병을 보낸 것

13. (가), (나) 국가에 대한 설명으로 옳은 것은? [3점]

경력(慶曆) 4년, 이원호가 칭신할 것을 약속하고 (가)에 조공을 바쳤다. 이에 (나)에 보내는 칙서를 조서라고 고쳐 칭하면서 국호는 따로 쓰지 않기로 하였다. ... (중략) ... 보안군 및 고평채(高平砦)에 두 나라 사이의 무역을 위한 각장을 설치하였으나 여기에서 (나) 측의 청원은 유통시키지 않기로 하였다. 그러나 (가)이/가 사신을 보낼 때 매번 유주까지만 가서 묵고 홍주·영주에는 끝내 가지 않았다. 이원호는 이후에도 자기 나라 안에서 여전히 칭제하였다.

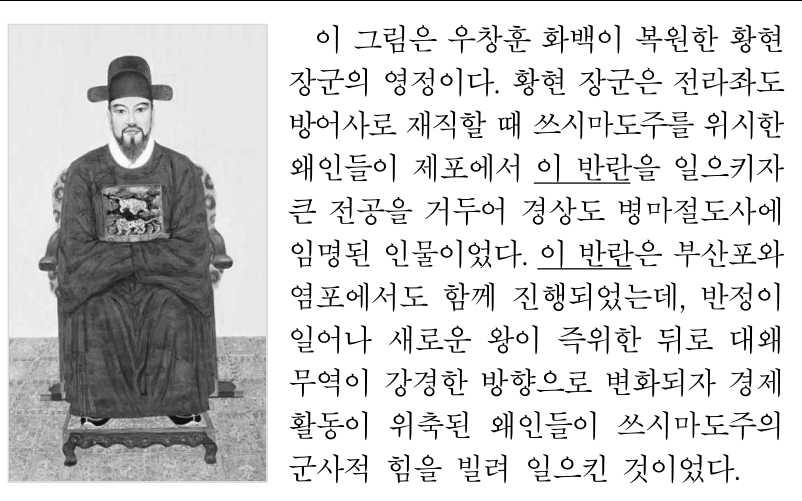
- ① (가) - 천호·백호제를 정비하였다.
- ② (가) - 고려와 군신 관계를 맺었다.
- ③ (나) - 몽골의 공격으로 멸망하였다.
- ④ (나) - 북면관·남면관제를 실시하였다.
- ⑤ (가), (나) - 라오둥 진출을 시도하였다.

14. 밑줄 친 '이 도시'에 대한 설명으로 옳은 것은?



- ① 엔닌이 장보고의 도움을 받은 곳이다.
- ② 송과 요(거란)가 맹약을 체결한 곳이다.
- ③ 동중서의 건의로 태학이 설립된 곳이다.
- ④ 서희와 소손녕의 담판이 이루어진 곳이다.
- ⑤ 광무제가 호족의 지원을 받아 즉위한 곳이다.

15. 밑줄 친 '이 반란'이 있었던 시기 동아시아에서 있었던 사실로 옳은 것은? [3점]



- ① 중국 - 산시 상인이 활동하였다.
- ② 중국 - 토목보의 변이 일어났다.
- ③ 일본 - 난학 교습소가 설치되었다.
- ④ 일본 - 슈인장 무역이 성행하였다.
- ⑤ 한국 - 항왜가 조선군에 합류하였다.

# 4 (동아시아사)

# 사회탐구 영역

16. 밑줄 친 '천황'에 대한 설명으로 옳은 것은?

도쿠가와 쇼군이 지금까지 위임받았던 대정(大正)을 반환하고 쇼군직을 사퇴하겠다는 두 안건을 천황께서 이번에 단호히 받아들이셨다. 원래 계축년 이래 미증유의 국난이 있어 선제께서 오랫동안 고심하신 것은 모두가 다 알고 있는 바이다. 이에 따라 왕정 복고를 하여 국위를 만회할 기반을 세우기로 작정하셔서 지금부터 섭정, 관백, 막부 등을 폐지하고 우선 임시로 총재, 의정, 참여의 3직을 두어 만기(萬機)를 행하실 것이다.

- ① 국가 총동원법을 반포하였다.
- ② 자유 민권 운동을 탄압하였다.
- ③ 요시노에서 남조를 개창하였다.
- ④ 승려 혜자에게 가르침을 받았다.
- ⑤ 미일 수호 통상 조약을 체결하였다.

17. (가), (나) 조약에 대한 설명으로 옳은 것만을 <보기>에서 찾아 모두 고른 것은? [3점]

(가) 제3조 일본국 정부는 그 대표자로 한국 황제 폐하 밑에 1명의 통감을 두되, 통감은 오로지 외교에 관한 사항을 관리하기 위해 경성에 주재하고, 친히 한국 황제 폐하를 만날 수 있는 권리를 가진다.


(나) 제2조 1910년 8월 22일 및 ㉠ 그 이전에 대한 제국과 대일본 제국 간 체결된 모든 조약 및 협정이 이미 무효임을 확인한다.

<보 기>

㉠. (가)는 ㉠에 속한다.  
 ㉡. (가)는 최혜국 대우 조항이 포함되었다.  
 ㉢. (나)에 의해 한국군의 장비가 현대화되었다.  
 ㉣. (가), (나) 시기 사이에 국공 내전이 발발하였다.

- ① ㉠, ㉡    ② ㉠, ㉢    ③ ㉠, ㉣    ④ ㉡, ㉢    ⑤ ㉡, ㉣

18. 다음 뉴스가 방송될 시점을 연표에서 찾아 고른 것은? [3점]



- |               |                  |              |                 |            |
|---------------|------------------|--------------|-----------------|------------|
| (가)           | (나)              | (다)          | (라)             | (마)        |
| 베트남 민주 공화국 수립 | 남베트남 민족 해방 전선 결성 | 베트남 평화 협정 체결 | 베트남 사회주의 공화국 수립 | 도이머이 정책 추진 |
| 한국·베트남 국교 체결  |                  |              |                 |            |
- ① (가)    ② (나)    ③ (다)    ④ (라)    ⑤ (마)

19. (가) 도시에서 있었던 사실로 옳은 것은?

**동아시아사 해외 답사 계획서**

□□고등학교 3학년 □반 □□반 3모둠

1) 기획 의도 - □□(가)의 주요 역사적 장소들을 탐방하며 근현대 동아시아의 발전 과정을 답사한다.

2) 답사 일시 - 2022년 11월 △△일 ~ 2022년 11월 △△일

3) 주요 답사지 정보

중국 항해 박물관은 난징 조약 이래 국제 무역항으로 가능한 □□(가)의 역사와 문화에 대해 전시하고 있다.

□□(가) 국립 정치 대학은 본래 공산당의 아지트였지만 중국 국민당의 장제스가 쿠데타를 일으켜 함락한 곳이다.

- ① 급진 개화파가 갑신정변을 일으켰다.
- ② 천두슈가 잡지 신청년을 발간하였다.
- ③ 김원봉이 조선 의용대를 창설하였다.
- ④ 이와쿠라 사절단이 사행을 시작하였다.
- ⑤ 어니스트 메이저가 신보를 창간하였다.

20. 다음 기사가 보도된 당시 동아시아의 정세로 옳은 것은?

3일 전에 실시된 일본 총선의 결과를 평가하는 시각의 하나는 55년 체제의 종언이라는 점이다. 일부 소수 야당이 끼어들기는 하였지만, 기본적으로 자유민주당과 사회당이 동거해 온 체제가 무너졌다는 것이다. 55년 체제의 붕괴는 두 당의 득표율 합계를 보면 분명하게 드러난다. 지난 총선에서 70.5%였던 두 당의 득표율은 이번에 18.5%나 줄어든 52.0%로 떨어졌다. 일당 장기 집권을 해 온 자유민주당과 만년 제1 야당에 안주해 온 사회당이 얻은 표는 투표자의 절반밖에 안 되는 셈이다.

- ① 북한 - 함영법이 제정되었다.
- ② 일본 - 플라자 합의가 타결되었다.
- ③ 한국 - 5·18 민주화 운동이 전개되었다.
- ④ 중국 - 남순 강화를 통한 개혁이 가속화되었다.
- ⑤ 타이완 - 민주진보당의 천수이볜이 총통에 당선되었다.

\* 확인 사항  
 ○ 답안지의 해당란에 필요한 내용을 정확히 기입(표기)했는지 확인 하시오.