

# 수학 영역

## 제 2 교시

1

5지선다형

1.  $\log_6 4 + \frac{2}{\log_3 6}$ 의 값은? [2점]

- ① 1       ② 2      ③ 3      ④ 4      ⑤ 5

$$\begin{aligned} \log_6 4 + \log_6 9 &= \log_6 36 \\ &= 2 \end{aligned}$$

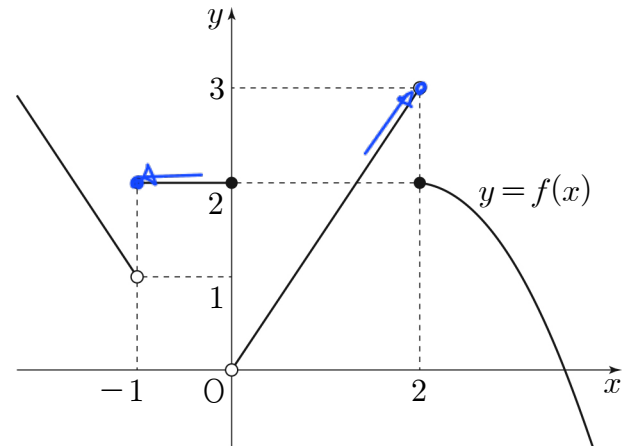
2. 모든 항이 양수인 등비수열  $\{a_n\}$ 에 대하여  $a_1 = 3$ ,  $\frac{a_5}{a_3} = 4$ 일 때,  $a_4$ 의 값은? [2점]

- ① 15      ② 18      ③ 21       ④ 24      ⑤ 27

$$\frac{a_5}{a_3} = r^2 = 4 \Rightarrow r = 2 (\because r > 0)$$

$$\therefore a_4 = ar^3 = 3 \cdot 8 = 24$$

3. 함수  $y = f(x)$ 의 그래프가 그림과 같다.



$\lim_{x \rightarrow -1^+} f(x) + \lim_{x \rightarrow 2^-} f(x)$ 의 값은? [3점]

- ① 1      ② 2      ③ 3      ④ 4       ⑤ 5

$$2 + 3 = 5$$

4. 함수  $f(x) = 2x^3 - 6x + a$ 의 극솟값이 2일 때, 상수  $a$ 의 값은? [3점]

- ① 6      ② 7      ③ 8      ④ 9      ⑤ 10

$$f'(x) = 6x^2 - 6 = 6(x-1)(x+1)$$

$x=1$  에서 극소

$$f(1) = 2 - 6 + a = 2 \quad \therefore a = 6$$

5. 0이 아닌 모든 실수  $h$ 에 대하여 다항함수  $f(x)$ 에서  $x$ 의 값이 1에서  $1+h$ 까지 변할 때의 평균변화율이  $h^2+2h+3$ 일 때,  $f'(1)$ 의 값은? [3점]

- ① 1      ②  $\frac{3}{2}$       ③ 2      ④  $\frac{5}{2}$       ⑤ 3

$$\frac{f(1+h) - f(1)}{(1+h) - 1} = h^2 + 2h + 3$$

$$\lim_{h \rightarrow 0} \frac{f(1+h) - f(1)}{h} = f'(1) = \lim_{h \rightarrow 0} (h^2 + 2h + 3) = 3$$

6. 함수  $y = \log_{\frac{1}{2}}(x-a) + b$ 가 닫힌구간  $[2, 5]$ 에서 최댓값 3, 최솟값 1을 갖는다.  $a+b$ 의 값은? (단,  $a, b$ 는 상수이다.) [3점]

- ① 1      ② 2      ③ 3      ④ 4      ⑤ 5

★ 감소함수

$$x=2 \text{ 최대 } 3 = -\log_2(2-a) + b$$

$$x=5 \text{ 최소 } 1 = -\log_2(5-a) + b$$

$$2 = \log_2 \frac{5-a}{2-a} \Rightarrow 4 = \frac{5-a}{2-a}$$

$$\therefore a=1, b=3$$

7. 다항함수  $f(x)$ 에 대하여 곡선  $y=f(x)$  위의 점  $(0, f(0))$ 에서의 접선의 방정식이  $y=3x-1$ 이다. 함수  $g(x)=(x+2)f(x)$ 에 대하여  $g'(0)$ 의 값은? [3점]

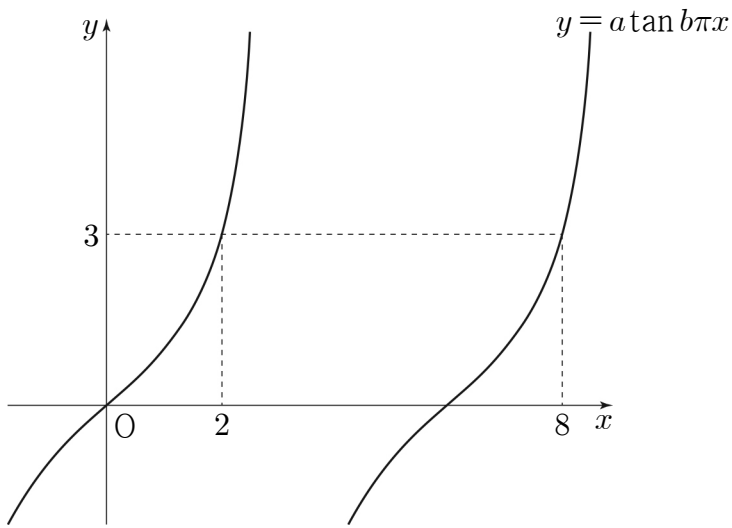
- ① 5      ② 6      ③ 7      ④ 8      ⑤ 9

$$y=3x-1 \Rightarrow f(0)=-1, f'(0)=3$$

$$g(x) = f(x) + (x+2)f'(x)$$

$$g'(0) = f'(0) + (2)f'(0) = -1 + 2 \cdot 3 = 5$$

8. 그림과 같이 함수  $y = a \tan b\pi x$ 의 그래프가 두 점  $(2, 3)$ ,  $(8, 3)$ 을 지날 때,  $a^2 \times b$ 의 값은? (단,  $a, b$ 는 양수이다.) [3점]



- ①  $\frac{1}{6}$     ②  $\frac{1}{3}$     ③  $\frac{1}{2}$     ④  $\frac{2}{3}$     ⑤  $\frac{5}{6}$

주:  $\frac{\pi}{b\pi} = \frac{1}{b} = 6 \quad \therefore b = \frac{1}{6}$

점  $(2,3)$  대입  $\sqrt{3}a = 3 \quad \therefore a = \sqrt{3}$

$\Rightarrow a^2 \times b = \frac{1}{2}$

9. 함수  $f(x)$ 에 대하여  $f'(x) = 3x^2 - 4x + 1$ 이고

$\lim_{x \rightarrow 0} \frac{1}{x} \int_0^x f(t) dt = 1$ 일 때,  $f(2)$ 의 값은? [4점]

- ①  $\sqrt{3}$     ② 4    ③ 5    ④ 6    ⑤ 7

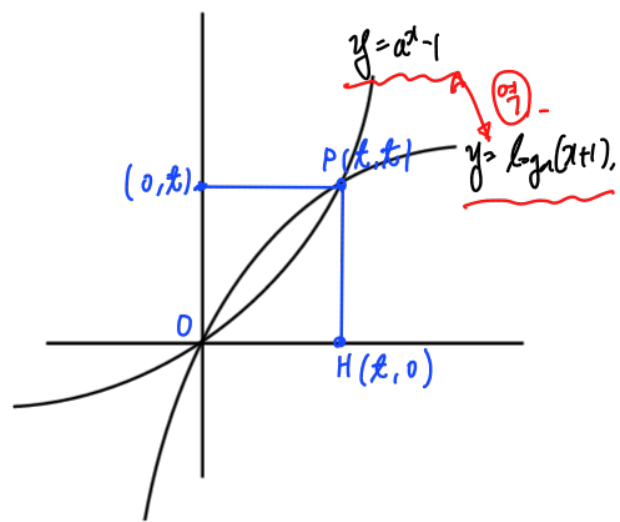
$\lim_{x \rightarrow 0} \frac{F(x) - F(0)}{x} = f'(0) = 1$

$f(x) = x^3 - 2x^2 + x + 1$

$f(2) = 8 - 8 + 2 + 1 = 3$

10. 상수  $a(a > 1)$ 에 대하여 곡선  $y = a^x - 1$ 과 곡선  $y = \log_a(x+1)$ 이 원점  $O$ 를 포함한 서로 다른 두 점에서 만난다. 이 두 점 중  $O$ 가 아닌 점을  $P$ 라 하고, 점  $P$ 에서  $x$ 축에 내린 수선의 발을  $H$ 라 하자. 삼각형  $OHP$ 의 넓이가 2일 때,  $a$ 의 값은? [4점]

- ①  $\sqrt{2}$     ②  $\sqrt{3}$     ③ 2    ④  $\sqrt{5}$     ⑤  $\sqrt{6}$



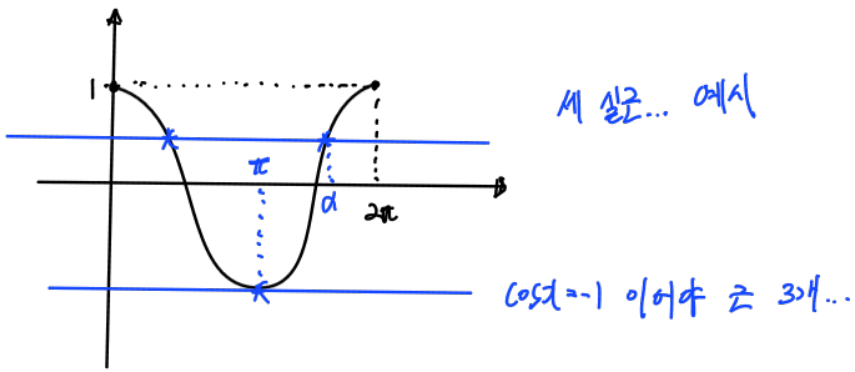
$\triangle OHP$ 의 넓이 =  $\frac{1}{2}xt = 2 \quad \therefore xt = 2$

점  $(2,2)$  대입  $a^2 - 1 = 2 \quad \therefore a = \sqrt{3}$

11.  $0 \leq x \leq 2\pi$  일 때, 방정식  $2\sin^2 x - 3\cos x = k$ 의 서로 다른 실근의 개수가 3이다. 이 세 실근 중 가장 큰 실근을  $\alpha$ 라 할 때,  $k \times \alpha$ 의 값은? (단,  $k$ 는 상수이다.) [4점]

- ①  $\frac{7}{2}\pi$     ②  $4\pi$     ③  $\frac{9}{2}\pi$     ④  $5\pi$     ⑤  $\frac{11}{2}\pi$

$$2(1 - \cos^2 x) - 3\cos x = k \Leftrightarrow 2\cos^2 x + 3\cos x + k - 2 = 0$$



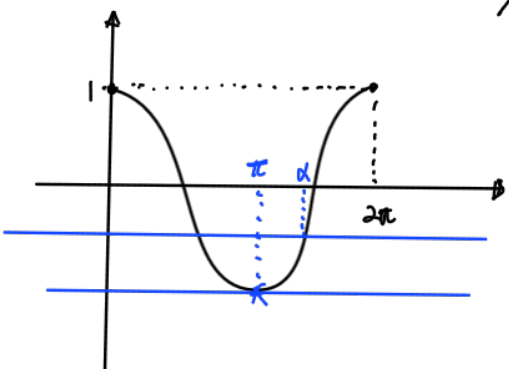
$$x = \pi \text{ 대입} \Rightarrow 2 - 3 + k - 2 = 0$$

$$\therefore k = 3$$

$$2\cos^2 x + 3\cos x + 1 = 0$$

$$(2\cos x + 1)(\cos x + 1) = 0 \Rightarrow \cos x = -\frac{1}{2} \text{ or } -1$$

$$x = \frac{2\pi}{3}, \pi, \frac{4\pi}{3}$$

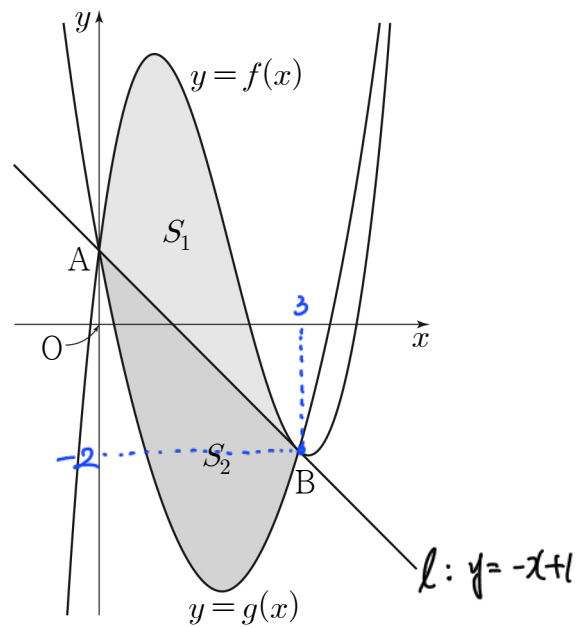


$$\therefore k \times \alpha = 4\pi$$

12. 그림과 같이 삼차함수  $f(x) = x^3 - 6x^2 + 8x + 1$ 의 그래프와 최고차항의 계수가 양수인 이차함수  $y = g(x)$ 의 그래프가 점  $A(0, 1)$ , 점  $B(k, f(k))$ 에서 만나고, 곡선  $y = f(x)$  위의 점 B에서의 접선이 점 A를 지난다.

곡선  $y = f(x)$ 와 직선 AB로 둘러싸인 부분의 넓이를  $S_1$ , 곡선  $y = g(x)$ 와 직선 AB로 둘러싸인 부분의 넓이를  $S_2$ 라 하자.

$S_1 = S_2$ 일 때,  $\int_0^k g(x)dx$ 의 값은? (단,  $k$ 는 양수이다.) [4점]



- ①  $-\frac{17}{2}$     ②  $-\frac{33}{4}$     ③  $-8$     ④  $-\frac{31}{4}$     ⑤  $-\frac{15}{2}$

$$l: y = (3k^2 - 12k + 8)(x - k) + k^3 - 6k^2 + 8k + 1$$

$$A(0, 1) \text{ 대입} \quad 1 = -3k^3 + 12k^2 - 8k + k^3 - 6k^2 + 8k + 1$$

$$\Leftrightarrow 2k^3 - 6k^2 = 0$$

$$\Leftrightarrow 2k^2(k - 3) = 0 \quad \therefore k = 3$$

삼차함수 넓이 공식

이차함수 넓이 공식

$$S_1 = \frac{1}{12}(3)^4 = \frac{27}{4} = S_2 = \frac{|a|}{6}(3)^3 = \frac{9}{2}a \quad \therefore a = \frac{3}{2}$$

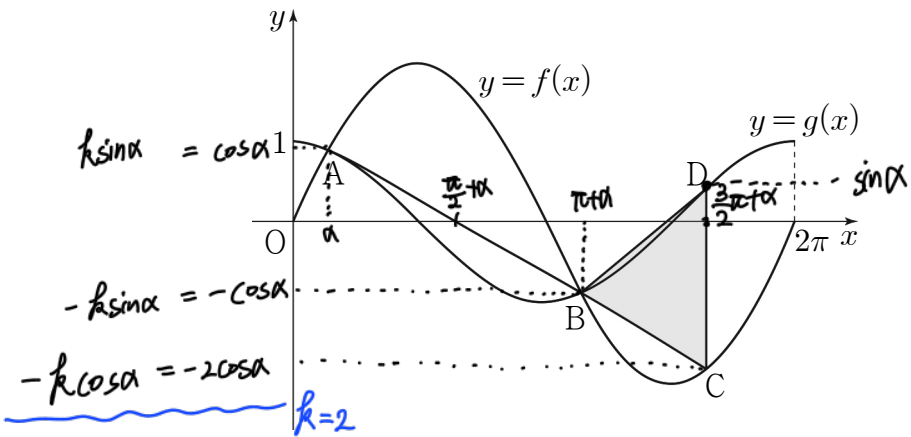
$$g(x) - (-x + 1) = \frac{3}{2}(x)(x - 3) \Leftrightarrow g(x) = \frac{3}{2}x^2 - \frac{11}{2}x + 1$$

$$\int_0^3 \left(\frac{3}{2}x^2 - \frac{11}{2}x + 1\right) dx = \left[\frac{1}{2}x^3 - \frac{11}{4}x^2 + x\right]_0^3$$

$$= \frac{27}{2} - \frac{99}{4} + 3 = -\frac{33}{4}$$

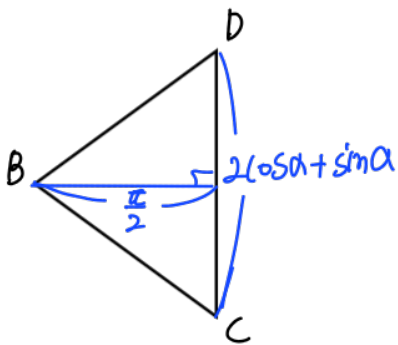
13. 그림과 같이 닫힌구간  $[0, 2\pi]$ 에서 정의된 두 함수  $f(x) = k \sin x$ ,  $g(x) = \cos x$ 에 대하여 곡선  $y = f(x)$ 와 곡선  $y = g(x)$ 가 만나는 서로 다른 두 점을 A, B라 하자. 선분 AB를 3:1로 외분하는 점을 C라 할 때, 점 C는 곡선  $y = f(x)$  위에 있다. 점 C를 지나고  $y$ 축에 평행한 직선이 곡선  $y = g(x)$ 와 만나는 점을 D라 할 때, 삼각형 BCD의 넓이는? (단,  $k$ 는 양수이고, 점 B의  $x$ 좌표는 점 A의  $x$ 좌표보다 크다.)

[4점]



- ①  $\frac{\sqrt{15}}{8}\pi$       ②  $\frac{9\sqrt{5}}{40}\pi$       ③  $\frac{\sqrt{5}}{4}\pi$   
 ④  $\frac{3\sqrt{10}}{16}\pi$       ⑤  $\frac{3\sqrt{5}}{10}\pi$

$k=2$  대입  $\tan \alpha = \frac{1}{2}$ ,  $\sin \alpha = \frac{1}{\sqrt{5}}$ ,  $\cos \alpha = \frac{2}{\sqrt{5}}$



$\Delta BCD$ 의 넓이  
 $= \frac{1}{2} \cdot \frac{\pi}{2} \cdot \frac{1}{\sqrt{5}} = \frac{\sqrt{5}}{4}\pi$

14. 양의 실수  $t$ 에 대하여 함수  $f(x)$ 를

$$f(x) = x^3 - 3t^2x$$

라 할 때, 닫힌구간  $[-2, 1]$ 에서 두 함수  $f(x)$ ,  $|f(x)|$ 의 최댓값을 각각  $M_1(t)$ ,  $M_2(t)$ 라 하자. 함수

$$g(t) = M_1(t) + M_2(t)$$

에 대하여 <보기>에서 옳은 것만을 있는 대로 고른 것은? [4점]

< 보기 >

- ㄱ.  $g(2) = 32$   
 ㄴ.  $g(t) = 2f(-t)$ 를 만족시키는  $t$ 의 최댓값과 최솟값의 합은 3이다.  
 ㄷ.  $\lim_{h \rightarrow 0^+} \frac{g(\frac{1}{2}+h) - g(\frac{1}{2})}{h} - \lim_{h \rightarrow 0^-} \frac{g(\frac{1}{2}+h) - g(\frac{1}{2})}{h} = 5$

- ① ㄱ                      ② ㄷ                      ③ ㄱ, ㄴ  
 ④ ㄴ, ㄷ                  ⑤ ㄱ, ㄴ, ㄷ

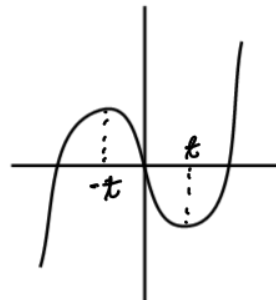
$$f'(x) = 3x^2 - 3t^2 = 3(x-t)(x+t)$$

i)  $0 < t < \frac{1}{2}$

$$M_1(t) = f(1)$$

$$M_2(t) = -f(-2)$$

$$\Rightarrow g(t) = 9 - 9t^2$$



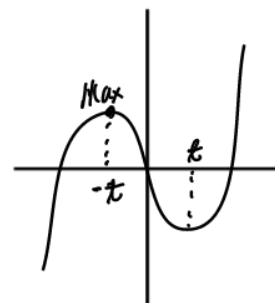
ii)  $\frac{1}{2} \leq t < 1$

$$M_1(t) = f(-t)$$

$$M_2(t) = -f(-2)$$

$$\Rightarrow g(t) = 2t^3 - 6t^2 + 8$$

iii)  $1 \leq t \leq 2$



$$M_1(t) = f(-t)$$

$$M_2(t) = f(-t)$$

$$\Rightarrow g(t) = 2f(-t)$$

ㄱ)  $g(2) = 2f(-2) = 2 \cdot 16 = 32$

ㄴ) Case iii) 최솟 1, 최댓 2  $\Rightarrow$  합: 3

~~ㄷ)  $(6t^2 - 12t)|_{\frac{1}{2}} - (-18t)|_{\frac{1}{2}} = \frac{9}{2}$~~

15. 다음 조건을 만족시키는 모든 수열  $\{a_n\}$ 에 대하여

$a_1$ 의 최댓값을  $M$ , 최솟값을  $m$ 이라 할 때,  $\log_2 \frac{M}{m}$ 의 값은?

[4점]

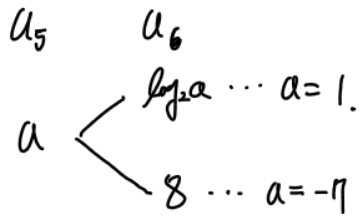
(가) 모든 자연수  $n$ 에 대하여

$$a_{n+1} = \begin{cases} 2^{n-2} & (a_n < 1) \\ \log_2 a_n & (a_n \geq 1) \end{cases}$$

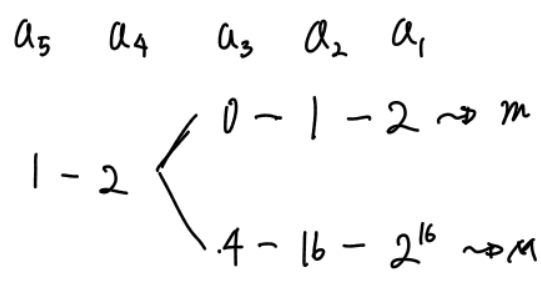
이다.

(나)  $a_5 + a_6 = 1$

- ① 12    ② 13    ③ 14    ④ 15    ⑤ 16



i)  $a_5 = 1$



$$\therefore \log_2 \frac{M}{m} = \log_2 2^6 = 6$$

ii)  $a_5 = -7$

$a_5$      $a_4$

$\times$   $-7 - 2^{-7} < 1$

$-7$  불가.

단답형

16.  $\lim_{x \rightarrow 2} \frac{x^2 + x - 6}{x - 2}$ 의 값을 구하시오. [3점] (5)

$$\lim_{x \rightarrow 2} \frac{(x-2)(x+3)}{x-2} = 5$$

17. 함수  $y = 4^x$ 의 그래프를  $x$ 축의 방향으로 1만큼,  $y$ 축의 방향으로  $a$ 만큼 평행이동한 그래프가 점  $(\frac{3}{2}, 5)$ 를 지날 때, 상수  $a$ 의 값을 구하시오. [3점] (3)

$$y = 4^x \xrightarrow{x \rightarrow 1, y \rightarrow a} y = 4^{x-1} + a$$

점  $(\frac{3}{2}, 5)$  대입  $5 = 2 + a$

$\therefore a = 3$

18. 다항함수  $f(x)$ 가

$$\lim_{x \rightarrow \infty} \frac{xf(x) - 2x^3 + 1}{x^2} = 5, f(0) = 1$$

을 만족시킬 때,  $f(1)$ 의 값을 구하시오. [3점]

8

분자 2차  $f(x) = 2x^2 + 5x + C$

$$f(0) = C = 1$$

$$f(1) = 2 + 5 + 1 = 8$$

19. 수직선 위를 움직이는 점 P의 시각  $t (t > 0)$ 에서의 위치  $x(t)$ 가

$$x(t) = \frac{3}{2}t^4 - 8t^3 + 15t^2 - 12t$$

이다. 점 P의 운동 방향이 바뀌는 순간 점 P의 가속도를 구하시오. [3점]

6

$$v(t) = 6t^3 - 24t^2 + 30t - 12$$

$$= 6(t^3 - 4t^2 + 5t - 2)$$

$$= 6(t-1)^2(t-2)$$

$t=2$ 에서 운동 방향 바뀜.

$$a(t) = 18t^2 - 48t + 30$$

$$a(2) = 72 - 96 + 30 = 6$$

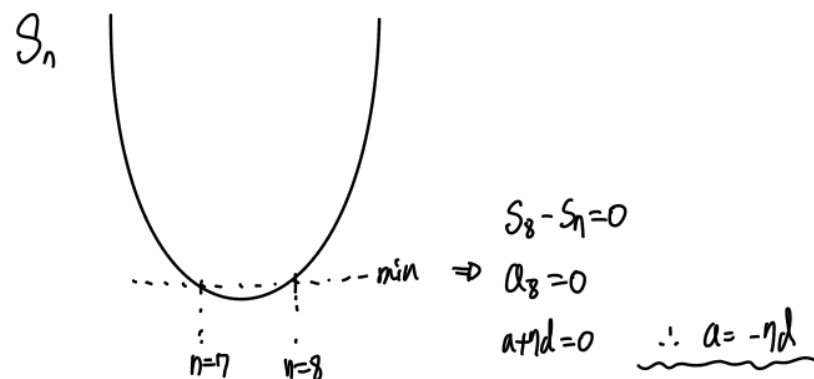
20. 등차수열  $\{a_n\}$ 의 첫째항부터 제  $n$ 항까지의 합을  $S_n$ 이라 하자.

$S_n$ 이 다음 조건을 만족시킬 때,  $a_{13}$ 의 값을 구하시오. [4점]

30

(가)  $S_n$ 은  $n=7, n=8$ 에서 최솟값을 갖는다.

(나)  $|S_m| = |S_{2m}| = 162$ 인 자연수  $m (m > 8)$ 이 존재한다.



$$S_m = -162, S_{2m} = 162$$

$$\left. \begin{aligned} \frac{m(-14d + (m-1)d)}{2} &= -162 \\ \frac{2m(-14d + (2m-1)d)}{2} &= 162 \end{aligned} \right\} \Rightarrow \begin{aligned} 4 - (m-1) &= -28 + 4m - 2 \\ 45 &= 5m \Leftrightarrow m=9 \text{ 대입} \end{aligned}$$

$$\frac{9(-6d)}{2} = -162 \quad \therefore d=6$$

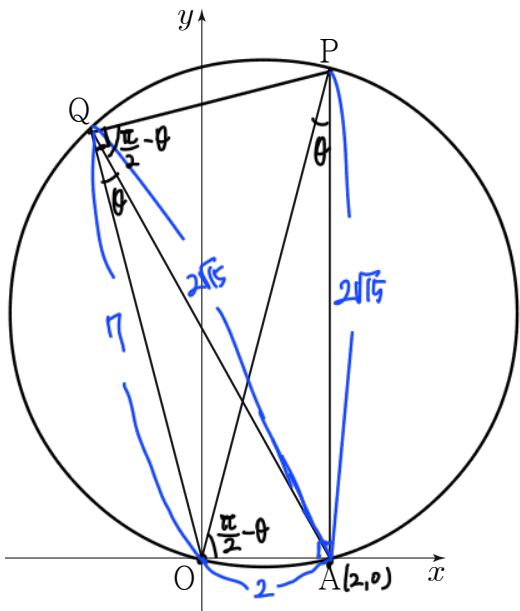
$$a_{13} = -7d + 12d = 5d = 30$$

21. 좌표평면 위의 두 점  $O(0, 0)$ ,  $A(2, 0)$ 과  $y$ 좌표가 양수인 서로 다른 두 점  $P, Q$ 가 다음 조건을 만족시킨다.

22

- (가)  $\overline{AP} = \overline{AQ} = 2\sqrt{15}$  이고  $\overline{OP} > \overline{OQ}$ 이다.
- (나)  $\cos(\angle OPA) = \cos(\angle OQA) = \frac{\sqrt{15}}{4}$

사각형  $OAPQ$ 의 넓이가  $\frac{q}{p}\sqrt{15}$  일 때,  $p \times q$ 의 값을 구하시오.  
(단,  $p$ 와  $q$ 는 서로소인 자연수이다.) [4점]



$\overline{OP}$  자음.

$$\overline{OP} = \sqrt{4 + 60} = 8$$

$\overline{OQ} = k$  라 하면,

Cosine Law

$$\frac{\sqrt{15}}{4} = \frac{k^2 + 60 - 4}{2 \cdot k \cdot 2\sqrt{15}} \Rightarrow k = 7$$

$$\overline{PQ} = \sqrt{64 - 49} = \sqrt{15}$$

$$\left. \begin{aligned} \Delta OAP \text{ 넓이} &= \frac{1}{2} \cdot 2 \cdot 2\sqrt{15} = 2\sqrt{15} \\ \Delta OPQ \text{ 넓이} &= \frac{1}{2} \cdot 7 \cdot \sqrt{15} = \frac{7}{2}\sqrt{15} \end{aligned} \right\} \Rightarrow \frac{11}{2}\sqrt{15}$$

$$\therefore p \times q = 22$$

22. 두 상수  $a, b (b \neq 1)$ 과 이차함수  $f(x)$ 에 대하여 함수  $g(x)$ 가 다음 조건을 만족시킨다.

32

- (가) 함수  $g(x)$ 는 실수 전체의 집합에서 미분가능하고, 도함수  $g'(x)$ 는 실수 전체의 집합에서 연속이다.
- (나)  $|x| < 2$ 일 때,  $g(x) = \int_0^x (-t + a) dt$ 이고  $g(0) = 0$
- $|x| \geq 2$ 일 때,  $|g'(x)| = f(x)$ 이다.
- (다) 함수  $g(x)$ 는  $x = 1, x = b$ 에서 극값을 갖는다.

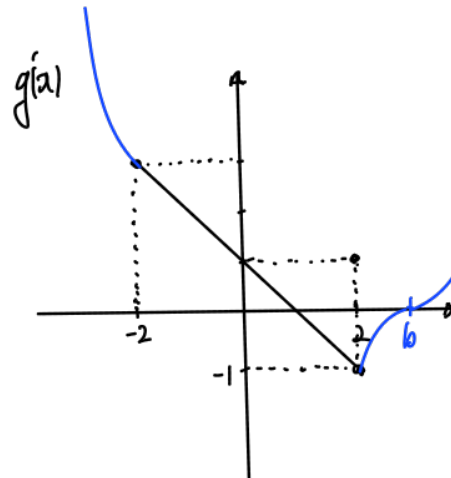
$g(k) = 0$ 을 만족시키는 모든 실수  $k$ 의 값의 합이  $p + q\sqrt{3}$ 일 때,  $p \times q$ 의 값을 구하시오. (단,  $p$ 와  $q$ 는 유리수이다.) [4점]

$$g'(x) = -x + a \quad (|x| < 2) \quad g(x) = -\frac{1}{2}x^2 + ax \quad (|x| < 2)$$

$$g'(1) = -1 + a = 0 \quad \therefore a = 1 \quad g(2) = 0$$

$$g'(2) = -1, \quad g'(-2) = 3$$

$$f(2) = 1, \quad f(-2) = 3$$

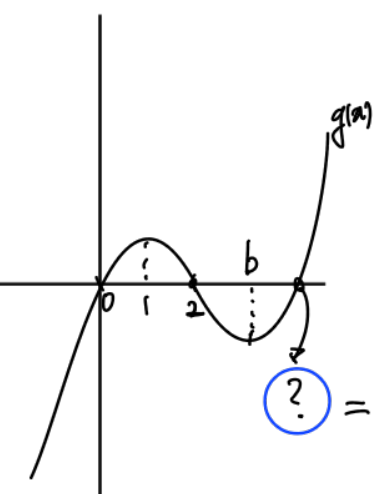


$$f(x) \Rightarrow f(x) = p(x-b)^2$$

$$f(2) = p(2-b)^2 = 1$$

$$f(-2) = p(-2-b)^2 = 3$$

$$b = 4 + 2\sqrt{3}, \quad p = \frac{1}{(2+2\sqrt{3})^2}$$



$$\int f(x) dx = F(x) \text{ 라 하면, } -F(2) = 0$$

$$F(x) = \frac{(x-4-2\sqrt{3})^3}{3(2+2\sqrt{3})^2} + C$$

$$\therefore C = \frac{2+2\sqrt{3}}{3}$$

$$F(x) = 0 \text{ 인 } x = 2, 6+4\sqrt{3}$$

$$\therefore 0 + 2 + 6 + 4\sqrt{3} = 8 + 4\sqrt{3} \quad \therefore p \times q = 32$$

※ 확인 사항

- 답안지의 해당란에 필요한 내용을 정확히 기입(표기)했는지 확인하시오.
- 이어서, 「선택과목(확률과 통계)」 문제가 제시되오니, 자신이 선택한 과목인지 확인하시오.



# 수학 영역(확률과 통계)

## 제 2 교시

5지선다형

23.  ${}^3P_2 + {}^2H_3$ 의 값은? [2점]

- ① 13      ② 14      ③ 15      ④ 16      ⑤ 17

$$\begin{aligned}
 3^2 + {}^4C_3 &= 9 + 4 \\
 &= 13
 \end{aligned}$$

24. 전체집합  $U = \{1, 2, 3, 4, 5, 6\}$ 의 두 부분집합  $A, B$ 에 대하여

$$n(A \cup B) = 5, A \cap B = \emptyset$$

을 만족시키는 집합  $A, B$ 의 모든 순서쌍  $(A, B)$ 의 개수는?

- ① 168      ② 174      ③ 180      ④ 186      ⑤ 192 [3점]

$U$ 에서 원소 5개 고르기  ${}^6C_5$

원소마다  $A, B$ 에 갈수 있음  $2^5$

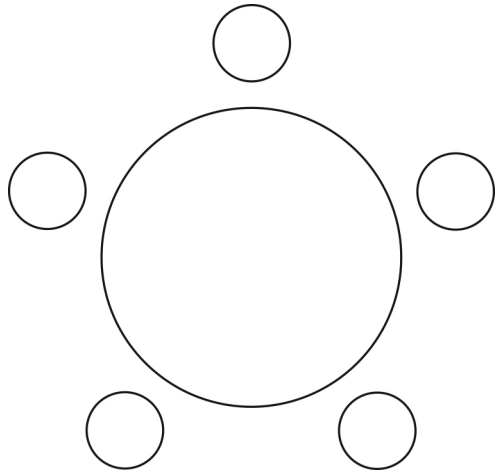
$$6 \cdot 32 = \underline{192}$$

# 2

## 수학 영역(확률과 통계)

25. 세 학생 A, B, C를 포함한 7명의 학생이 있다. 이 7명의 학생 중에서 A, B, C를 포함하여 5명을 선택하고, 이 5명의 학생 모두를 일정한 간격으로 원 모양의 탁자에 둘러앉게 하는 경우의 수는? (단, 회전하여 일치하는 것은 같은 것으로 본다.) [3점]

① 120    ② 132    ③ 144    ④ 156    ⑤ 168



A, B, C, 4명중 2명 더 뽑기

$$4C_2 = 6$$

5명 앉히기

$$(5-1)! = 24$$

$$\therefore 6 \cdot 24 = 144$$

26. 방정식  $3x + y + z + w = 11$ 을 만족시키는 자연수  $x, y, z, w$ 의 모든 순서쌍  $(x, y, z, w)$ 의 개수는? [3점]

- ① 24    ② 27    ③ 30    ④ 33    ⑤ 36

$$\left. \begin{array}{l} x = x' + 1 \\ y = y' + 1 \\ z = z' + 1 \\ w = w' + 1 \end{array} \right\} \Rightarrow 3x' + y' + z' + w' = 5$$

i)  $x' = 0$  일 때

$$3H_5 = {}_7C_5 = 21$$

ii)  $x' = 1$  일 때

$$3H_2 = {}_4C_2 = 6$$

$$\therefore 21 + 6 = 27$$

27. 양수  $a$ 에 대하여  $\left(ax - \frac{2}{ax}\right)^7$ 의 전개식에서 각 항의 계수의 총합이 1일 때,  $\frac{1}{x}$ 의 계수는? [3점]

- ① 70    ② 140    ③ 210    ④ 280    ⑤ 350

$$x=1 \text{ 대입 } \left(a - \frac{2}{a}\right)^7 = 1 \Rightarrow a - \frac{2}{a} = 1$$


$$\therefore a=2$$

$$\left(2x - \frac{1}{x}\right)^7 \Rightarrow \frac{1}{x} \text{의 계수}$$

$${}^7C_3 (2)^3 (-1)^4 = 280$$

28. 숫자 1, 1, 2, 2, 2, 3, 3, 4가 하나씩 적혀 있는 8장의 카드가 있다. 이 8장의 카드 중에서 7장을 택하여 이 7장의 카드 모두를 일렬로 나열할 때, 서로 이웃한 2장의 카드에 적혀 있는 수의 곱 모두가 짝수가 되도록 나열하는 경우의 수는? (단, 같은 숫자가 적힌 카드끼리는 서로 구별하지 않는다.) [4점]

- ① 264    ② 268    ③ 272    ④ 276    ⑤ 280



i) 짝수 4개 선택 (2,2,2,4)

$$(2,2,2,4) \text{ 나열 } \frac{4!}{3!} = 4$$

$$\text{나머지 } (1,1,3) \quad {}^3C_3 \cdot \frac{3!}{2!} = 30$$

$$(1,3,3) \quad \text{"} = 30$$

$$\Rightarrow 4 \cdot 60 = 240$$

ii) 짝수 3개 선택 (2,2,2) (2,2,4)

$$\text{짝수 나열 } 1 + \frac{3!}{2!} = 4$$

$$\text{나머지 } (1,1,3,3) \quad \frac{4!}{2!2!} = 6$$

$$\Rightarrow 4 \cdot 6 = 24$$

$$\therefore 240 + 24 = 264$$

# 4

## 수학 영역(확률과 통계)

단답형

29. 두 집합

$$X = \{1, 2, 3, 4, 5, 6, 7, 8\}, Y = \{1, 2, 3, 4, 5\}$$

에 대하여 다음 조건을 만족시키는  $X$ 에서  $Y$ 로의 함수  $f$ 의 개수를 구하시오. [4점]

523

- (가)  $f(4) = f(1) + f(2) + f(3)$
- (나)  $2f(4) = f(5) + f(6) + f(7) + f(8)$

$f(4)$	$f(1), f(2), f(3)$	$f(5), f(6), f(7), f(8)$
1	X	X
2	X	X
i) 3	(1,1,1)	(1,1,1,3) (1,1,2,2)
	↓	$(\frac{4!}{3!} + \frac{4!}{2!2!})$
ii) 4	(1,1,2)	(1,1,1,5) (1,1,2,4) (1,1,3,3)
		(1,2,2,3) (2,2,2,2)
	$\frac{3!}{2!}$	$(\frac{4!}{3!} + \frac{4!}{2!} + \frac{4!}{2!2!} + \frac{4!}{2!} + \frac{4!}{4!})$
iii) 5	(1,1,3) (1,2,2)	(1,1,3,5) (1,1,4,4) (1,2,2,5)
		(1,2,3,4) (1,3,3,3) (2,2,2,4)
	$2 \times \frac{3!}{2!}$	$(\frac{4!}{2!} + \frac{4!}{2!2!} + \frac{4!}{2!} + 4! + \frac{4!}{3!} + \frac{4!}{3!} + \frac{4!}{2!2!})$

$$i) + ii) + iii) = (1 \cdot 6) + (3 \cdot 35) + (6 \cdot 68) = 523$$

30. 세 문자  $a, b, c$  중에서 중복을 허락하여 각각 5개 이하씩 모두 7개를 택해 다음 조건을 만족시키는 7자리의 문자열을 만들려고 한다.

- (가) 한 문자가 연달아 3개 이어지고 그 문자는  $a$ 뿐이다.
- (나) 어느 한 문자도 연달아 4개 이상 이어지지 않는다.

188

예를 들어,  $baaacca, ccbbaaa$ 는 조건을 만족시키는 문자열이고  $aabbcca, aaabccc, ccbaaaa$ 는 조건을 만족시키지 않는 문자열이다. 만들 수 있는 모든 문자열의 개수를 구하시오. [4점]

i) a 3개

b	c	개수
3	1	$bbbc, bbcb (2+5) \times 2 = 14$
2	2	$bbcc, bc bc, bccb 5 \times 6 = 30$
1	3	14
4	0	$bbbb = 1$
0	4	1

합계  $\Rightarrow 60$

ii) a 4개  $\Rightarrow (aaa/a)$

b	c	개수
3	0	$-b-b-b- (2+2 \times 2 \times 2) = 10$
2	1	$-b-b-c- 4P_2 \times 3 = 36$
1	2	36
0	3	10

합계  $\Rightarrow 92$

iii) a 5개  $\Rightarrow (aaaa/a, a)$

b	c	개수
2	0	$-b-b- (3+6) = 9$
1	1	$-b-c- (2 \times (3+6)) = 18$
0	2	9

합계  $\Rightarrow 36$

$$\therefore 60 + 92 + 36 = 188$$

※ 확인 사항

- 답안지의 해당란에 필요한 내용을 정확히 기입(표기)했는지 확인하시오.
- 이어서, 「선택과목(미적분)」 문제가 제시되오니, 자신이 선택한 과목인지 확인하시오.

# 수학 영역(미적분)

## 제 2 교시

1

5지선다형

23.  $\lim_{n \rightarrow \infty} (\sqrt{4n^2+3n} - \sqrt{4n^2+1})$ 의 값은? [2점]

- ①  $\frac{1}{2}$     ②  $\frac{3}{4}$     ③ 1    ④  $\frac{5}{4}$     ⑤  $\frac{3}{2}$

$$\lim_{n \rightarrow \infty} \frac{4n^2+3n - 4n^2-1}{\sqrt{4n^2+3n} + \sqrt{4n^2+1}} = \frac{3}{4}$$

24. 함수  $f(x) = e^x(2\sin x + \cos x)$ 에 대하여  $f'(0)$ 의 값은? [3점]

- ① 3    ② 4    ③ 5    ④ 6    ⑤ 7

$$f'(x) = e^x(2\sin x + \cos x) + e^x(2\cos x - \sin x)$$

$$f'(0) = 1 \cdot (1) + 1 \cdot (2)$$

$$= 3$$

25. 수열  $\{a_n\}$ 에 대하여 급수  $\sum_{n=1}^{\infty} \left( a_n - \frac{2^{n+1}}{2^n + 1} \right)$ 이 수렴할 때,

$\lim_{n \rightarrow \infty} \frac{2^n \times a_n + 5 \times 2^{n+1}}{2^n + 3}$ 의 값은? [3점]

- ① 6      ② 8      ③ 10      ④ 12      ⑤ 14

$\lim_{n \rightarrow \infty} \left( a_n - \frac{2^{n+1}}{2^n + 1} \right) = 0$

$\lim_{n \rightarrow \infty} a_n = 2$

$\lim_{n \rightarrow \infty} \frac{2^n \cdot a_n + 10 \cdot 2^n}{2^n + 3} = \frac{2 + 10}{1} = 12$

26. 두 함수  $f(x) = a^x, g(x) = 2 \log_b x$ 에 대하여

$\lim_{x \rightarrow e} \frac{f(x) - g(x)}{x - e} = 0$

일 때,  $a \times b$ 의 값은? (단,  $a$ 와  $b$ 는 1보다 큰 상수이다.) [3점]

- ①  $e^{\frac{1}{e}}$       ②  $e^{\frac{2}{e}}$       ③  $e^{\frac{3}{e}}$       ④  $e^{\frac{4}{e}}$       ⑤  $e^{\frac{5}{e}}$

$f(e) - g(e) = 0 \Leftrightarrow a^e = 2 \log_b e$

$\lim_{x \rightarrow e} \frac{f(x) - f(e)}{x - e} - \frac{g(x) - g(e)}{x - e} = f'(e) - g'(e) = 0$

$\Leftrightarrow a^e \ln a = \frac{2}{e \ln b}$

$\frac{2}{e \ln b} \cdot \ln a = \frac{2}{e \ln b} \therefore a = e^{\frac{1}{e}}$

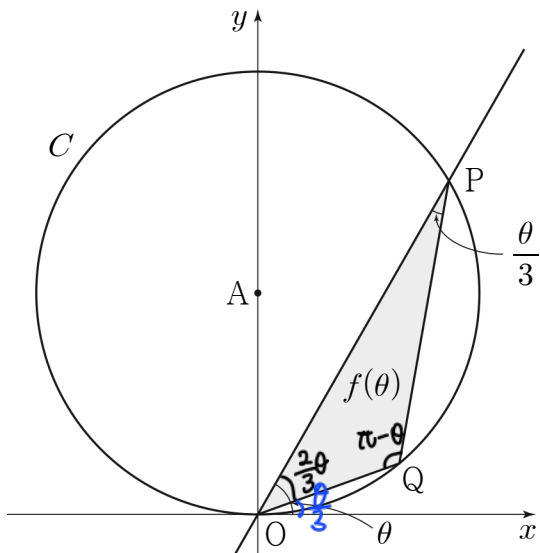
$\Rightarrow e = 2 \log_b e \therefore b = e^{\frac{2}{e}}$

$\Rightarrow a \times b = e^{\frac{3}{e}}$

# 수학 영역(미적분)

3

27. 그림과 같이 좌표평면 위에 점  $A(0, 1)$ 을 중심으로 하고 반지름의 길이가 1인 원  $C$ 가 있다. 원점  $O$ 를 지나고  $x$ 축의 양의 방향과 이루는 각의 크기가  $\theta$ 인 직선이 원  $C$ 와 만나는 점 중  $O$ 가 아닌 점을  $P$ 라 하고, 호  $OP$  위에 점  $Q$ 를  $\angle OPQ = \frac{\theta}{3}$ 가 되도록 잡는다. 삼각형  $POQ$ 의 넓이를  $f(\theta)$ 라 할 때,  $\lim_{\theta \rightarrow 0^+} \frac{f(\theta)}{\theta^3}$ 의 값은? (단, 점  $Q$ 는 제1사분면 위의 점이고,  $0 < \theta < \pi$ 이다.) [3점]



- ①  $\frac{2}{9}$       ②  $\frac{1}{3}$       ③  $\frac{4}{9}$       ④  $\frac{5}{9}$       ⑤  $\frac{2}{3}$

$\overline{PQ} = 2 \sin \frac{2\theta}{3}$        $\overline{OQ} = 2 \sin \frac{\theta}{3}$   
 $f(\theta) = \frac{1}{2} \cdot 2 \sin \frac{2\theta}{3} \cdot 2 \sin \frac{\theta}{3} - \sin(\pi - \theta)$

$\lim_{\theta \rightarrow 0^+} 2 \cdot \frac{\sin \frac{2\theta}{3}}{\theta} \cdot \frac{\sin \frac{\theta}{3}}{\theta} \cdot \frac{\sin \theta}{\theta} = \frac{4}{9}$

28. 그림과 같이  $\overline{AB_1} = 2$ ,  $\overline{B_1C_1} = \sqrt{3}$ ,  $\overline{C_1D_1} = 1$ 이고

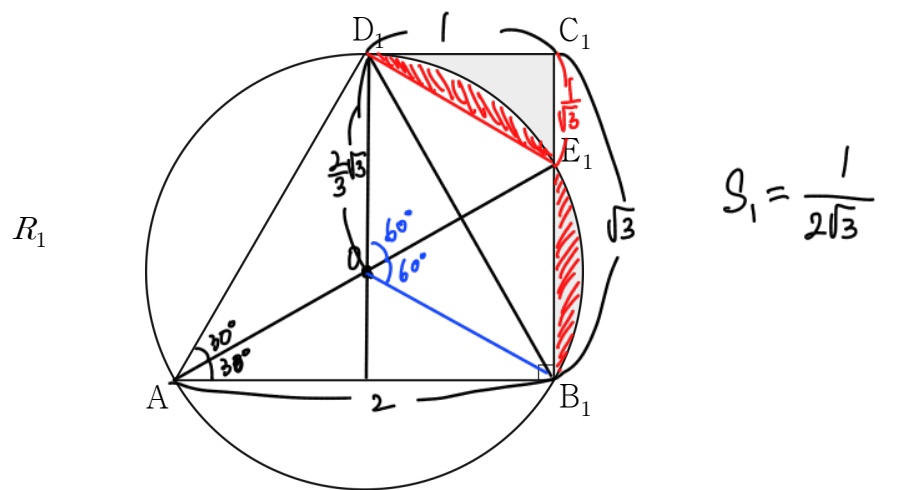
$\angle C_1B_1A = \frac{\pi}{2}$ 인 사다리꼴  $AB_1C_1D_1$ 이 있다. 세 점  $A, B_1, D_1$ 을 지나는 원이 선분  $B_1C_1$ 과 만나는 점 중  $B_1$ 이 아닌 점을  $E_1$ 이라 할 때, 두 선분  $C_1D_1, C_1E_1$ 과 호  $E_1D_1$ 로 둘러싸인 부분과 선분  $B_1E_1$ 과 호  $B_1E_1$ 로 둘러싸인 부분인  $\cap$  모양의 도형에 색칠하여 얻은 그림을  $R_1$ 이라 하자.

그림  $R_1$ 에서 선분  $AB_1$  위의 점  $B_2$ , 호  $E_1D_1$  위의 점  $C_2$ , 선분  $AD_1$  위의 점  $D_2$ 와 점  $A$ 를 꼭짓점으로 하고

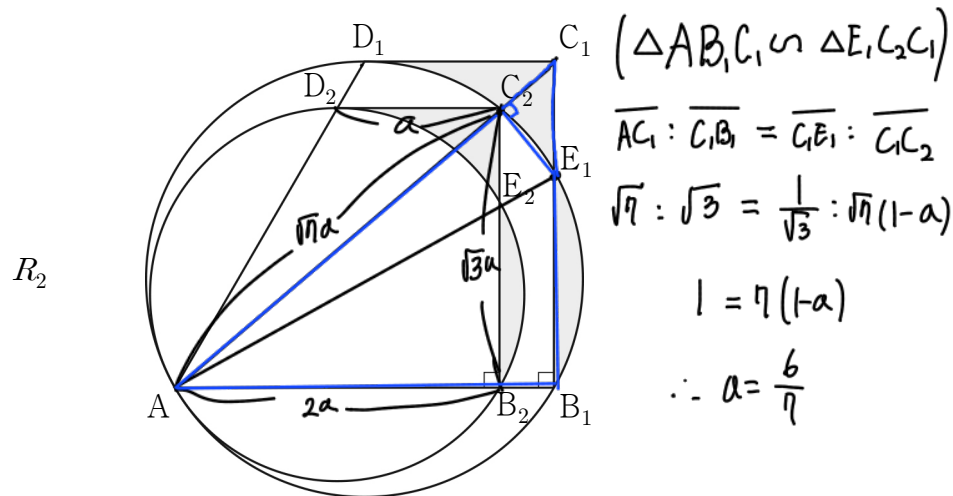
$\overline{B_2C_2} : \overline{C_2D_2} = \sqrt{3} : 1$ 이고  $\angle C_2B_2A = \frac{\pi}{2}$ 인 사다리꼴

$AB_2C_2D_2$ 를 그린다. 그림  $R_1$ 을 얻은 것과 같은 방법으로 점  $E_2$ 를 잡고, 사다리꼴  $AB_2C_2D_2$ 에  $\cap$  모양의 도형을 그리고 색칠하여 얻은 그림을  $R_2$ 라 하자.

이와 같은 과정을 계속하여  $n$ 번째 얻은 그림  $R_n$ 에 색칠되어 있는 부분의 넓이를  $S_n$ 이라 할 때,  $\lim_{n \rightarrow \infty} S_n$ 의 값은? [4점]



$S_1 = \frac{1}{2\sqrt{3}}$



- ①  $\frac{49}{144} \sqrt{3}$       ②  $\frac{49}{122} \sqrt{3}$       ③  $\frac{49}{100} \sqrt{3}$
- ④  $\frac{49}{78} \sqrt{3}$       ⑤  $\frac{7}{8} \sqrt{3}$

답은비 1 :  $\frac{6}{7}$   
 넓이비 1 :  $\frac{36}{49} \Rightarrow \frac{\frac{1}{2\sqrt{3}}}{1 - \frac{36}{49}} = \frac{49\sqrt{3}}{78}$

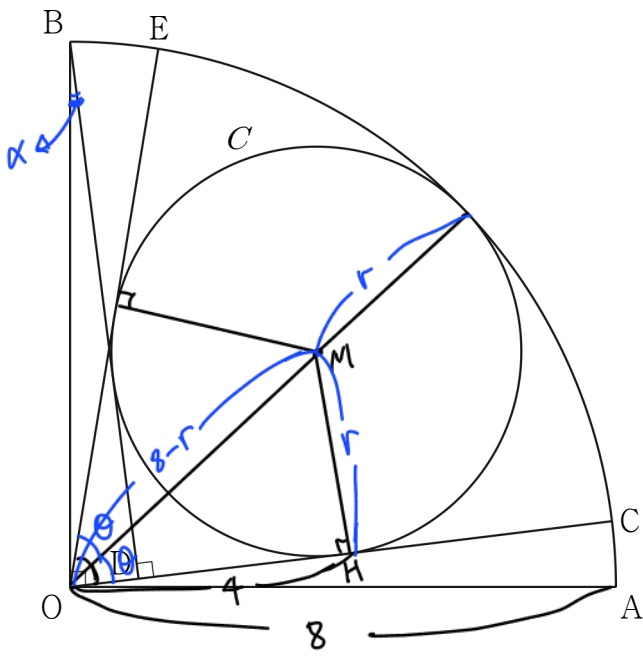
# 4

## 수학 영역(미적분)

단답형

29. 그림과 같이 중심이 O, 반지름의 길이가 8이고 중심각의 크기가  $\frac{\pi}{2}$ 인 부채꼴 OAB가 있다. 호 AB 위의 점 C에 대하여 점 B에서 선분 OC에 내린 수선의 발을 D라 하고, 두 선분 BD, CD와 호 BC에 동시에 접하는 원을 C라 하자. 점 O에서 원 C에 그은 접선 중 점 C를 지나지 않는 직선이 호 AB와 만나는 점을 E라 할 때,  $\cos(\angle COE) = \frac{7}{25}$ 이다. (79)

$\sin(\angle AOE) = p + q\sqrt{7}$ 일 때,  $200 \times (p+q)$ 의 값을 구하시오. (단, p와 q는 유리수이고, 점 C는 점 B가 아니다.) [4점]



$$\begin{aligned} \cos 2\theta &= \cos(\theta+\theta) = \cos^2\theta - \sin^2\theta \\ &= 2\cos^2\theta - 1 = \frac{1}{25} \Rightarrow \cos\theta = \frac{4}{5} \\ \sin\theta &= \frac{3}{5} \end{aligned}$$

원 C의 반지름: r,  $\overline{OM} = 8-r$

$$\sin\theta = \frac{r}{8-r} = \frac{3}{5} \Rightarrow r=3 \Rightarrow \cos\theta = \frac{4}{5} \Rightarrow \overline{OH} = \frac{4}{5} \quad (\therefore \overline{OH} = 4)$$

$\overline{HD} = 3$  이므로  $\overline{OD} = \overline{OC} - \overline{HD} = 1$

$$\angle OBD = \angle AOC = \alpha \text{라 하면, } \sin\alpha = \frac{1}{8}, \cos\alpha = \frac{3\sqrt{7}}{8}$$

$$\begin{aligned} \sin(\angle AOE) &= \sin(\alpha+2\theta) = \sin\alpha \cos 2\theta + \cos\alpha \sin 2\theta \\ &= \frac{1}{8} \cdot \frac{1}{25} + \frac{3\sqrt{7}}{8} \cdot 2 \cdot \frac{3}{5} \cdot \frac{4}{5} \\ &= \frac{1}{200} + \frac{12}{200}\sqrt{7} \end{aligned}$$

$$\therefore 200 \times (p+q) = \frac{19}{200} \times 200 = 19$$

30.  $x \geq 0$ 에서 정의된 함수  $f(x)$ 가 다음 조건을 만족시킨다.

$$(가) f(x) = \begin{cases} 2^x - 1 & (0 \leq x \leq 1) \\ 4 \times \left(\frac{1}{2}\right)^x - 1 & (1 < x \leq 2) \end{cases}$$

(나) 모든 양의 실수  $x$ 에 대하여  $f(x+2) = -\frac{1}{2}f(x)$ 이다.

(67)

$x > 0$ 에서 정의된 함수  $g(x)$ 를

$$g(x) = \lim_{h \rightarrow 0^+} \frac{f(x+h) - f(x-h)}{h}$$

라 할 때,

$$\lim_{t \rightarrow 0^+} \{g(n+t) - g(n-t)\} + 2g(n) = \frac{\ln 2}{2^{24}}$$

를 만족시키는 모든 자연수  $n$ 의 값의 합을 구하시오. [4점]

$(0 \leq x \leq 1)$	$2^n - 1$	$(1 < x \leq 2)$	$2^{-x+2} - 1$
$(2 < x \leq 3)$	$\left(-\frac{1}{2}\right)^1 (2^{2-2} - 1)$	$(3 < x \leq 4)$	$\left(-\frac{1}{2}\right)^1 (2^{-x+4} - 1)$
$\vdots$	$\vdots$	$\vdots$	$\vdots$
$(2m < x \leq 2m+1)$	$\left(-\frac{1}{2}\right)^m (2^{x-2m} - 1)$	$(2m+1 < x \leq 2m+2)$	$\left(-\frac{1}{2}\right)^m (2^{-x+2m+2} - 1)$

$x \neq 2k, 2k+1$  일 때,  $g(x) = 2f'(x)$

$x = 2k$  일 때

$$\begin{aligned} g(x) &= \lim_{h \rightarrow 0^+} \frac{\left(-\frac{1}{2}\right)^k (2^{2k+h-2k} - 1) - \left(-\frac{1}{2}\right)^{k+1} (2^{-2k+h+2k} - 1)}{h} \\ &= 3 \cdot \left(-\frac{1}{2}\right)^k \cdot \lim_{h \rightarrow 0^+} \frac{2^h - 1}{h} \\ &= 3 \cdot \left(-\frac{1}{2}\right)^k \cdot \ln 2 \end{aligned}$$

$x = 2k+1$  일 때

$$\begin{aligned} g(x) &= \lim_{h \rightarrow 0^+} \frac{\left(-\frac{1}{2}\right)^k (2^{-2k+1-h+2k+2} - 1) - \left(-\frac{1}{2}\right)^{k+1} (2^{2k+1-h-2k} - 1)}{h} \\ &= 0 \end{aligned}$$

★ 다음장에 계속...

※ 확인 사항

- 답안지의 해당란에 필요한 내용을 정확히 기입(표기)했는지 확인하시오.
- 이어서, 「선택과목(기하)」 문제가 제시되오니, 자신이 선택한 과목인지 확인하시오.



⊕ of no. 30

$$f'(x) = \begin{cases} \left(-\frac{1}{2}\right)^m (2^{x-2m}) \ln 2 & (2m < x \leq 2m+1) \\ -\left(-\frac{1}{2}\right)^m (2^{-x+2m+2}) \ln 2 & (2m+1 < x \leq 2m+2) \end{cases}$$

i)  $n$ 이 짝수 ( $n=2k$ )

$$\begin{aligned} \lim_{x \rightarrow 0^+} g(2k+x) &= \lim_{x \rightarrow 0^+} 2f'(2k+x) \\ &= 2 \cdot \left(-\frac{1}{2}\right)^k (2^{2k-2k}) \ln 2 \\ &= 2 \cdot \left(-\frac{1}{2}\right)^k \ln 2 \end{aligned}$$

$$\begin{aligned} \lim_{x \rightarrow 0^+} g(2k-x) &= \lim_{x \rightarrow 0^+} 2f'(2k-x) \\ &= -2 \cdot \left(-\frac{1}{2}\right)^{k-1} (2^{-2k+2k-2+2}) \ln 2 \\ &= 4 \cdot \left(-\frac{1}{2}\right)^k \ln 2 \end{aligned}$$

$$\therefore 2 \cdot \left(-\frac{1}{2}\right)^k \ln 2 - 4 \cdot \left(-\frac{1}{2}\right)^k \ln 2 + 6 \cdot \left(-\frac{1}{2}\right)^k \ln 2 = 4 \cdot \left(-\frac{1}{2}\right)^k \ln 2$$

$$\Rightarrow \underline{k=26, n=52}$$

ii)  $n$ 이 홀수 ( $n=2k+1$ )

$$\begin{aligned} \lim_{x \rightarrow 0^+} g(2k+1+x) &= \lim_{x \rightarrow 0^+} 2f'(2k+1+x) \\ &= -2 \cdot \left(-\frac{1}{2}\right)^k (2^{-2k-1+2k+2}) \ln 2 \\ &= -4 \cdot \left(-\frac{1}{2}\right)^k \ln 2 \end{aligned}$$

$$\begin{aligned} \lim_{x \rightarrow 0^+} g(2k+1-x) &= \lim_{x \rightarrow 0^+} 2f'(2k+1-x) \\ &= 2 \cdot \left(-\frac{1}{2}\right)^k (2^{2k+1-2k}) \ln 2 \\ &= 4 \cdot \left(-\frac{1}{2}\right)^k \ln 2 \end{aligned}$$

$$\therefore -4 \cdot \left(-\frac{1}{2}\right)^k \ln 2 - 4 \cdot \left(-\frac{1}{2}\right)^k \ln 2 + 0 = -8 \cdot \left(-\frac{1}{2}\right)^k \ln 2$$

$$\Rightarrow \underline{k=21, n=55}$$

$$52+55=107$$